



**Staff Selection Commission**  
(Government Of India)

**REGISTRATION NUMBER :** [WWW.QMATHS.IN](http://WWW.QMATHS.IN)  
**EXAM DATE :** 22-January-2017  
**EXAM NAME :** SSC Examination 2016  
**TOTAL MARKS :** 200

**CANDIDATE NAME :** [WWW.QMATHS.IN](http://WWW.QMATHS.IN)  
**EXAM START TIME :** 16:15:00  
**EXAM DURATION :** 01:15 Hrs  
**TOTAL NO OF QUESTIONS :** 100

**QID : 201** - Select the related word/letters/number from the given alternatives.

Intelligent : Dumb :: Inflate: ?

दिए गए विकल्पों में से संबंधित शब्द/अक्षर/संख्या को चुनिए।

बुद्धिमान : मूर्ख :: फुलाना : ?

**Options:**

- 1) Raise  
उठाना
- 2) Deflate  
हवा निकालना
- 3) Degrade  
अपमानित करना
- 4) Aerated  
वातित

**Correct Answer:** Deflate

हवा निकालना

**Candidate Answer:** Deflate

हवा निकालना

**QID : 202** - Select the related word/letters/number from the given alternatives.

FS: IT :: QT: ?

दिए गए विकल्पों में से संबंधित शब्द/अक्षर/संख्या को चुनिए।

FS: IT :: QT: ?

**Options:**

- 1) PR
- 2) TU
- 3) ST
- 4) TQ

**Correct Answer:** TU

**Candidate Answer:** TU

**QID : 203** - Select the related word/letters/number from the given alternatives.

HI : 17:: PQ : ?

दिए गए विकल्पों में से संबंधित शब्द/अक्षर/संख्या को चुनिए।

HI : 17:: PQ : ?

**Options:**

- 1) 37
- 2) 24
- 3) 30
- 4) 33

**Correct Answer:** 33

**Candidate Answer:** 33

**QID : 204** - Select the related word/letters/number from the given alternatives.

4: 1024 :: 7 : ?

दिए गए विकल्पों में से संबंधित शब्द/अक्षर/संख्या को चुनिए।

4: 1024 :: 7 : ?

**Options:**

- 1) 343
- 2) 2401
- 3) 16807
- 4) 196

**Correct Answer:** 16807

**Candidate Answer:** 2401

**QID : 205** - Select the odd word/letters/number/number pair from the given alternatives.

दिए गए विकल्पों में से विषम शब्द/अक्षर/संख्या/संख्या युग्म चुनिए।

**Options:**

- 1) Xenon  
जेनोन
- 2) Hydrogen  
हाइड्रोजन
- 3) Argon  
आर्गन
- 4) Helium  
हीलियम

**Correct Answer:** Hydrogen

हाइड्रोजन

**Candidate Answer:** Hydrogen

हाइड्रोजन

**QID : 206** - Select the odd word/letters/number/number pair from the given alternatives.

दिए गए विकल्पों में से विषम शब्द/अक्षर/संख्या/संख्या युग्म चुनिए।

**Options:**

- 1) CLU
- 2) HQZ
- 3) AJS
- 4) OXF

**Correct Answer:** OXF

**Candidate Answer:** OXF

**QID : 207** - Select the odd word/letters/number/number pair from the given alternatives.

दिए गए विकल्पों में से विषम शब्द/अक्षर/संख्या/संख्या युग्म चुनिए।

**Options:**

- 1) TSR
- 2) QPO
- 3) NML
- 4) ABC

**Correct Answer:** ABC

**Candidate Answer:** ABC

**QID : 208** - Select the odd word/letters/number/number pair from the given alternatives.

दिए गए विकल्पों में से विषम शब्द/अक्षर/संख्या/संख्या युग्म चुनिए।

**Options:**

- 1) 7642
- 2) 4520
- 3) 3927
- 4) 5841

**Correct Answer:** 5841

**Candidate Answer:** 5841

**QID : 209** - A series is given with one term missing. Choose the correct alternative from the given ones that will complete the series.

Leaf, Caterpillar, Frog, ?

एक अनुक्रम दिया गया है, जिसमें से एक पद लुप्त है। दिए गए विकल्पों में से वह सही विकल्प चुनिए, जो अनुक्रम को पूरा करे।

पत्ता, केटरपिलर, मेढ़क, ?

**Options:**

1) Grasshopper

टिड्डी

2) Snake

साँप

3) Cow

गाय

4) Deer

हिरण

**Correct Answer:** Snake

साँप

**Candidate Answer:** Grasshopper

टिड्डी

**QID : 210** - A series is given with one term missing. Choose the correct alternative from the given ones that will complete the series.

CD, FA, IX, LU, ?

एक अनुक्रम दिया गया है, जिसमें से एक पद लुप्त है। दिए गए विकल्पों में से वह सही विकल्प चुनिए, जो अनुक्रम को पूरा करे।

CD, FA, IX, LU, ?

**Options:**

1) TU

2) RS

3) OP

4) OR

**Correct Answer:** OR

**Candidate Answer:** OR

**QID : 211** - A series is given with one term missing. Choose the correct alternative from the given ones that will complete the series.

RT, ?, ZB, DF

एक अनुक्रम दिया गया है, जिसमें से एक पद लुप्त है। दिए गए विकल्पों में से वह सही विकल्प चुनिए, जो अनुक्रम को पूरा करे।

RT, ?, ZB, DF

**Options:**

1) WX

2) VX

3) VY

4) UV

**Correct Answer:** VX

**Candidate Answer:** VX

**QID : 212** - A series is given with one term missing. Choose the correct alternative from the given ones that will complete the series.

0, 4, 18, 48, 100, 180, ?

एक अनुक्रम दिया गया है, जिसमें से एक पद लुप्त है। दिए गए विकल्पों में से वह सही विकल्प चुनिए, जो अनुक्रम को पूरा करे।

0, 4, 18, 48, 100, 180, ?

**Options:**

1) 294

2) 211

3) 186

4) 222

**Correct Answer:** 294

**Candidate Answer:** 294

**QID : 213** - In the following question, two statements are given each followed by two conclusions I and II. You have to consider the statements to be true even if they seem to be at variance from commonly known facts. You have to decide which of the given conclusions, if any, follows from the given statements.

Statements:

- (I) All young girls are modern.  
(II) No modern men are superstitious.

Conclusion:

- (I) No girls are superstitious.  
(II) No young men are superstitious.

निम्नलिखित प्रश्न में, दो कथन दिए गए हैं जिनके आगे दो निष्कर्ष I और II निकाले गए हैं। आपको मानना है कि कथन सत्य है चाहे वे सामान्यतः ज्ञात तथ्यों से भिन्न प्रतीत होते हों। आपको निर्णय करना है कि दिए गए निष्कर्षों में से कौन सा/कौन से निश्चित रूप से कथनों द्वारा सही निकाला जा सकता है/सकते हैं, यदि कोई हो।

कथन:

- (I) सभी युवा लड़कियां आधुनिक हैं।  
(II) कोई आधुनिक पुरुष अंधविश्वासी नहीं है।

निष्कर्ष:

- (I) कोई लड़की अंधविश्वासी नहीं है।  
(II) कोई युवा पुरुष अंधविश्वासी नहीं है।

**Options:**

1) Conclusion I follows

निष्कर्ष I सही है

2) Conclusion II follows

निष्कर्ष II सही है

3) Neither I nor II follows

न तो I और न ही II सही हैं

4) Both I and II follows

I और II दोनों सही हैं

**Correct Answer:** Neither I nor II follows

न तो I और न ही II सही हैं

**Candidate Answer:** Neither I nor II follows

न तो I और न ही II सही हैं

**QID : 214** - If the age of Rahul is 5 years more than his friend Ajay's age and the age of Rahul's wife is 6 years less than Rahul, and Ajay's wife is 1 year older than Rahul's wife, then which of the following statements is true?

यदि राहुल की उम्र उसके दोस्त अजय की उम्र से 5 वर्ष अधिक है और राहुल की पत्नी की उम्र, राहुल से 6 वर्ष कम है, और अजय की पत्नी राहुल की पत्नी से एक वर्ष बड़ी है, तो निम्न में से कौन-सा कथन सही है?

**Options:**

1) Rahul's age and Ajay's wife's age is same.

राहुल की उम्र और अजय की पत्नी की उम्र समान है।

2) Ajay's wife's age and Ajay's age is same.

अजय की पत्नी और अजय की उम्र समान है।

3) Rahul and Ajay are of the same age.

राहुल और अजय समान उम्र के हैं।

4) Rahul and Ajay's age difference is 3 years.

राहुल और अजय की उम्र में 3 वर्ष का अंतर है।

**Correct Answer:** Ajay's wife's age and Ajay's age is same.

अजय की पत्नी और अजय की उम्र समान है।

**Candidate Answer:** Ajay's wife's age and Ajay's age is same.

अजय की पत्नी और अजय की उम्र समान है।

**QID : 215** - Arrange the given words in the sequence in which they occur in the dictionary.

- i. Forbes  
ii. Forest  
iii. Forensic  
iv. Formation

निम्नलिखित शब्दों को शब्दकोश में आने वाले क्रम के अनुसार लिखें।

- i. Forbes  
ii. Forest  
iii. Forensic  
iv. Formation

**Options:**

1) iii, ii, iv, i

2) iv, iii, ii, i

3) i, ii, iii, iv

4) i, iii, ii, iv

**Correct Answer:** i, iii, ii, iv

**Candidate Answer:** i, iii, ii, iv

**QID : 216** - In a certain code language, "STATION" is written as "5313462" and "RED" is written as "789". How is "TRAIN" written in that code language?

किसी विशिष्ट कोड भाषा में, "STATION" को "5313462" लिखा जाता है और "RED" को "789" लिखा जाता है। इस कोड भाषा में "TRAIN" को किस प्रकार लिखा जाएगा?

**Options:**

1) 73241

2) 37421

3) 37142

4) 37412

**Correct Answer:** 37142

**Candidate Answer:** 37142

**QID : 217** -

In the following question, select the missing number from the given series.

निम्नलिखित प्रश्न में दिए गए विकल्पों में से लुप्त अंक ज्ञात कीजिए।

6	16	?
7	23	17
8	9	30

**Options:**

1) 27

2) 25

3) 12

4) 14

**Correct Answer:** 25

**Candidate Answer:** [ NOT ANSWERED ]

**QID : 218** - If "S" denotes "multiplied by", "V" denotes "subtracted from", "M" denotes "added to" and "L" denotes "divided by", then

$72 \text{ L } 24 \text{ S } 3 \text{ V } 7 \text{ M } 2 = ?$

यदि "S" का अर्थ "गुणा" है, "V" का अर्थ "घटाना" है, "M" का अर्थ "जोड़" है और "L" का अर्थ "भाग" है, तो

$72 \text{ L } 24 \text{ S } 3 \text{ V } 7 \text{ M } 2 = ?$

**Options:**

1) 4

2) 6

3) 8

4) 10

**Correct Answer:** 4

**Candidate Answer:** 4

**QID : 219** - In the following question, which one set of letters when sequentially placed at the gaps in the given letter series shall complete it?

a \_ d \_ b d \_ a b \_ d d

निम्नलिखित प्रश्न में अक्षरों का कौन सा समूह खाली स्थानों पर क्रमवार रखने से दी गई अक्षर श्रृंखला को पूरा करेगा?

a \_ d \_ b d \_ a b \_ d d

**Options:**

1) badd

2) ddba

3) bcda

4) dbac

**Correct Answer:** badd

**Candidate Answer:** dbac

**QID : 220** - Mohan is chasing a bike which is moving in the south-west direction. In which direction is Mohan moving?

मोहन एक मोटर-साइकल का पीछा कर रहा है जो कि दक्षिण-पश्चिम दिशा की ओर जा रही है। मोहन किस दिशा में जा रहा है?

**Options:**

- 1) North  
उत्तर
- 2) East  
पूर्व
- 3) North-east  
उत्तर - पूर्व
- 4) South-west  
दक्षिण-पश्चिम

**Correct Answer:** South-west  
दक्षिण-पश्चिम

**Candidate Answer:** South-west  
दक्षिण-पश्चिम

**QID : 221 -**

A word is represented by only one set of numbers as given in any one of the alternatives. The sets of numbers given in the alternatives are represented by two classes of alphabets as shown in the given two matrices. The columns and rows of Matrix-I are numbered from 0 to 4 and that of Matrix-II are numbered from 5 to 9. A letter from these matrices can be represented first by its row and next by its column, for example, 'K' can be represented by 22, 04, etc., and 'P' can be represented by 77, 98, etc. Similarly, you have to identify the set for the word 'STRAIN'.

एक शब्द केवल एक संख्या-समूह द्वारा दर्शाया गया है, जैसा कि विकल्पों में से किसी एक में दिया गया है। विकल्पों में दिए गए संख्या-समूह अक्षरों के दो वर्गों द्वारा दर्शाए गए हैं, जैसा कि दिए गए दो आव्यूहों में है। आव्यूह-I के स्तम्भ और पंक्ति की संख्या 0 से 4 है और आव्यूह-II की 5 से 9। इन आव्यूहों से एक अक्षर को पहले उसकी पंक्ति और बाद में स्तम्भ संख्या द्वारा दर्शाया जा सकता है। उदाहरण के लिए 'K' को 22, 04 आदि द्वारा दर्शाया जा सकता है तथा 'P' को 77, 98 आदि द्वारा दर्शाया जा सकता है। इसी तरह से आपको प्रश्न में दिए शब्द 'STRAIN' के लिए समूह को पहचानना है।

**Matrix-I****आव्यूह - I**

	0	1	2	3	4
0	L	D	S	G	K
1	L	R	S	I	F
2	L	I	K	R	F
3	I	K	S	Z	R
4	C	K	Y	R	Y

**Matrix-II****आव्यूह - II**

	5	6	7	8	9
5	A	N	X	X	K
6	Q	T	T	T	K
7	U	A	P	N	A
8	U	V	A	T	N
9	U	V	W	P	A

**Options:**

- 1) 12, 88, 43, 76, 21, 78
- 2) 87, 66, 11, 79, 13, 33
- 3) 32, 68, 43, 85, 97, 54
- 4) 02, 65, 97, 34, 79, 44

**Correct Answer:** 12, 88, 43, 76, 21, 78

**Candidate Answer:** 12, 88, 43, 76, 21, 78

**QID : 222 -** Abhishek is Byomkesh's brother and Vimal is Jackie's father. Ella is Byomkesh's mother. Abhishek and Jackie are brothers. How is Ella related to Vimal?

अभिषेक ब्योमकेश का भाई है और विमल जैकी का पिता है। एला ब्योमकेश की माँ हैं। अभिषेक और जैकी भाई हैं। एला विमल से कैसे संबंधित है?

**Options:**

- 1) Wife  
पत्नी
- 2) Daughter  
बेटी
- 3) Mother  
माँ
- 4) Sister  
बहन

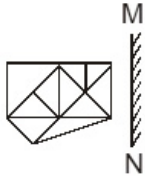
**Correct Answer:** Wife  
पत्नी

**Candidate Answer:** Mother  
माँ

**QID : 223 -**

If a mirror is placed on the line MN, then which of the answer figures is the right image of the given figure?

यदि एक दर्पण को MN रेखा पर रखा जाए, तो दी गई उत्तर आकृतियों में से कौन सी आकृति प्रश्न आकृति की सही प्रतिबिम्ब होगी?



**Options:**

1)



2)



3)



4)



**Correct Answer:**



**Candidate Answer:**



**QID : 224 -** Identify the diagram that best represents the relationship among the given classes.

Sweets, Ladoo, Jalebi

वह आरेख चुनिए जो नीचे दिए गए वर्गों के बीच के संबंध का सही निरूपण करता है।

मिठाइयाँ, लड्डू, जलेबी

Options:

1)



2)



3)



4)



Correct Answer:



Candidate Answer:



QID : 225 -

A piece of paper is folded and punched as shown in the below question figures. From the given answer figures, indicate how it will appear when opened.

नीचे दी गयी प्रश्न आकृतियों में दिखाए अनुसार कागज को मोड़कर छेदने तथा खोलने के बाद वह किस उत्तर आकृति जैसा दिखाई देगा?

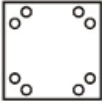


Options:


1)




2)



3)

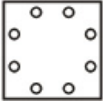


4)

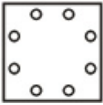




**Correct Answer:**



**Candidate Answer:**



**QID : 226** - Which of these railway stations is a World Heritage Site?

इन रेलवे स्टेशनों में से कौन सा एक विश्व विरासत स्थल है?

**Options:**

1) Kharagpur Railway Station

खड़गपुर रेलवे स्टेशन

2) Howrah Station

हावड़ा स्टेशन

3) Chhatrapati Shivaji Terminus

छत्रपति शिवाजी टर्मिनस

4) Kanpur Central

कानपुर सेंट्रल

**Correct Answer:** Chhatrapati Shivaji Terminus

छत्रपति शिवाजी टर्मिनस

**Candidate Answer:** Kharagpur Railway Station

खड़गपुर रेलवे स्टेशन

**QID : 227** - Name the first female Nobel Prize winner from India.

भारत की प्रथम नोबल पुरस्कार विजेता महिला का नाम बताइए।

**Options:**

1) Indira Gandhi

इंदिरा गाँधी

2) Mother Teresa

मदर टेरेसा

3) Kavitha Krishnan

कविता कृष्णन

4) Sarojini Naidu

सरोजिनी नायडू

**Correct Answer:** Mother Teresa

मदर टेरेसा

**Candidate Answer:** Mother Teresa

मदर टेरेसा

**QID : 228** - Intestinal bacteria synthesizes which of the following in the human body?

मानव शरीर में आंतों के बैक्टीरिया निम्नलिखित में से किसका संश्लेषण करते हैं?

**Options:**

1) Vitamin K

विटामिन K

2) Proteins

प्रोटीन

3) Fats

वसा

4) Vitamin D

विटामिन D

**Correct Answer:** Vitamin K

विटामिन K

**Candidate Answer:** [ NOT ANSWERED ]

**QID : 229** - \_\_\_\_\_ is the study of the physical form and external structure of plants.

\_\_\_\_\_ में पौधों का भौतिक रूप और बाहरी संरचना का अध्ययन किया जाता है।

**Options:**

- 1) Physiology  
फिजियोलॉजी
- 2) Anatomy  
शरीर रचना विज्ञान
- 3) Phytomorphology  
फाईटोमोर्फोलॉजी
- 4) Cytology  
कोशिका विज्ञान

**Correct Answer:** Phytomorphology

फाईटोमोर्फोलॉजी

**Candidate Answer:** Phytomorphology

फाईटोमोर्फोलॉजी

**QID : 230** - Which of the following is a structural and functional unit of kidneys?

निम्नलिखित में से कौन सी गुर्दों की संरचनात्मक और कार्यकारी इकाई है?

**Options:**

- 1) Renette Cells  
रेनेट कोशिकाएँ
- 2) Flame Cells  
फ्लेम कोशिकाएँ
- 3) Nephrites  
नेफ्राइट्स
- 4) Nephrons  
नेफ्रॉस

**Correct Answer:** Nephrons

नेफ्रॉस

**Candidate Answer:** Nephrons

नेफ्रॉस

**QID : 231** - The Chemical formula of Acetic acid is \_\_\_\_\_.

एसिटिक एसिड का रासायनिक सूत्र \_\_\_\_\_ है।

**Options:**

- 1)  $\text{CH}_3\text{COH}$
- 2)  $\text{CH}_3\text{COOH}$
- 3)  $\text{CH}_3\text{COCH}_3$
- 4)  $\text{CH}_2\text{COOH}$

**Correct Answer:**  $\text{CH}_3\text{COOH}$

**Candidate Answer:**  $\text{CH}_3\text{COOH}$

**QID : 232** - The common name of sodium tetraborate decahydrate is \_\_\_\_\_.

सोडियम टेट्राबोरेट डेकाहाइड्रेट का साधारण नाम \_\_\_\_\_ है।

**Options:**

- 1) epsom salt  
एप्सम सॉल्ट
- 2) gypsum  
जिप्सम
- 3) Borax  
बोरेक्स
- 4) galena  
गेलीना

**Correct Answer:** Borax

बोरेक्स

**Candidate Answer:** Borax

बोरेक्स

**QID : 233** - ASP in computer science stands for?

कंप्यूटर विज्ञान में एसपी का विस्तारित रूप क्या है?

**Options:**

- 1) Abstract Service Provider  
सार सेवा प्रदाता
- 2) Application Service Provider  
आवेदन सेवा प्रदाता
- 3) Application Signal Provider  
आवेदन संकेत प्रदाता
- 4) Abstract Syntax Provider  
सार सिंटैक्स प्रदाता

**Correct Answer:** Application Service Provider  
आवेदन सेवा प्रदाता

**Candidate Answer:** Application Service Provider  
आवेदन सेवा प्रदाता

**QID : 234** - Giddha is a folk dance of which state?

गिद्धा किस राज्य का लोकनृत्य है?

**Options:**

- 1) Rajasthan  
राजस्थान
- 2) Uttar Pradesh  
उत्तरप्रदेश
- 3) Punjab  
पंजाब
- 4) Bihar  
बिहार

**Correct Answer:** Punjab  
पंजाब

**Candidate Answer:** Punjab  
पंजाब

**QID : 235** - A manufacturer faces price elasticity of demand of a  $-1.25$  for its product. If it lowers its price by  $6.4\%$ , the increase in quantity sold will be \_\_\_\_\_.

एक निर्माता अपने उत्पाद के लिए एक  $-1.25$  की मांग की कीमत लोच का सामना कर रहा है। यदि यह  $6.4\%$  से इसकी कीमत को कम करता है, तो बेची जाने वाली मात्रा में होने वाली वृद्धि \_\_\_\_\_ होगी।

**Options:**

- 1) 5.15 percent  
5.15 प्रतिशत
- 2) 7.65 percent  
7.65 प्रतिशत
- 3) 8 percent  
8 प्रतिशत
- 4) 5.12 percent  
5.12 प्रतिशत

**Correct Answer:** 8 percent  
8 प्रतिशत

**Candidate Answer:** 7.65 percent  
7.65 प्रतिशत

**QID : 236** - If Money supply growth is faster than real GDP growth, it results in \_\_\_\_\_.

यदि पैसे की आपूर्ति की वृद्धि वास्तविक जीडीपी विकास दर की तुलना में तेज है, तो इसका परिणाम \_\_\_\_\_ होगा।

**Options:**

- 1) Inflation  
मुद्रास्फीति
- 2) deflation  
अपस्फीति
- 3) budget surplus  
बजट अधिशेष
- 4) budget deficit  
बजट घाटा

**Correct Answer:** Inflation  
मुद्रास्फीति

**Candidate Answer:** budget surplus  
बजट अधिशेष

**QID : 237** - Algae belongs to which of the following levels of the ecosystem?

शैवाल पारिस्थितिकी तंत्र (इकोसिस्टम) के निम्नलिखित में से किस स्तर में आता है?

**Options:**

- 1) Decomposers  
विघटन करने वाला
- 2) Destructors  
विनाशक
- 3) Producers  
उत्पादक
- 4) Consumers  
उपभोक्ता

**Correct Answer:** Producers  
उत्पादक

**Candidate Answer:** Producers  
उत्पादक

**QID : 238** - Which park also shares its boundaries with Bangladesh?

कौन सा उद्यान बांग्लादेश के साथ भी अपनी सीमाओं को साझा करता है?

**Options:**

- 1) Sundarbans National Park  
सुंदरबन राष्ट्रीय उद्यान
- 2) Kaziranga National Park  
काजीरंगा राष्ट्रीय उद्यान
- 3) Kanchendzonga National Park  
कंचनजंघा राष्ट्रीय उद्यान
- 4) Panna National Park  
पन्ना राष्ट्रीय उद्यान

**Correct Answer:** Sundarbans National Park  
सुंदरबन राष्ट्रीय उद्यान

**Candidate Answer:** Kaziranga National Park  
काजीरंगा राष्ट्रीय उद्यान

**QID : 239** - ATM stands for

ATM का विस्तारित रूप है

**Options:**

- 1) Any Time Money  
एनी टाइम मनी
- 2) Auto Technology Money  
ऑटो टेक्नोलॉजी मनी
- 3) Automated Teller Machine  
ऑटोमेटेड टेलर मशीन
- 4) Automatic Transaction Machinery  
ऑटोमेटिक ट्रांजेक्शन मशीनरी

**Correct Answer:** Automated Teller Machine  
ऑटोमेटेड टेलर मशीन

**Candidate Answer:** Automated Teller Machine  
ऑटोमेटेड टेलर मशीन

**QID : 240** - In terms of size, Neptune ranks no. \_\_\_\_ in our Solar System.

आकार के संदर्भ में वरुण हमारे सौर मंडल में \_\_\_\_\_ स्थान पर आता है।

**Options:**

- 1) 1  
पहले
- 2) 2  
दूसरे
- 3) 3  
तीसरे
- 4) 4  
चौथे

**Correct Answer:** 4  
चौथे

**Candidate Answer:** 4  
चौथे

**QID : 241** - Abu Dhabi is the Capital City of \_\_\_\_\_.

अबूधाबी \_\_\_\_\_ की राजधानी है।

**Options:**

- 1) United Arab Emirates  
यूनाइटेड अरब अमीरात
- 2) Netherlands  
नीदरलैंड
- 3) South Korea  
दक्षिण कोरिया
- 4) Italy  
इटली

**Correct Answer:** United Arab Emirates

यूनाइटेड अरब अमीरात

**Candidate Answer:** United Arab Emirates

यूनाइटेड अरब अमीरात

**QID : 242** - In Akbar's regime, \_\_\_\_\_ was the military head.

अकबर के शासनकाल में \_\_\_\_\_ सेनापति थे।

**Options:**

- 1) Sultan Ahmed Fawad  
सुल्तान अहमद फ़वाद
- 2) Suri Moja  
सूरी मोज़ा
- 3) Mir Khaas  
मीर खास
- 4) Mir Bakshi  
मीर बक्षी

**Correct Answer:** Mir Bakshi

मीर बक्षी

**Candidate Answer:** Mir Khaas

मीर खास

**QID : 243** - Who pioneered the guerrilla warfare methods?

किसने गुरिल्ला युद्ध के तरीकों की शुरुआत की थी?

**Options:**

- 1) Babur  
बाबर
- 2) Akbar  
अकबर
- 3) Shivaji  
शिवाजी
- 4) Bajirao Peshwa  
बाजीराव पेशवा

**Correct Answer:** Shivaji

शिवाजी

**Candidate Answer:** Shivaji

शिवाजी

**QID : 244** - Who Invented Universal Standard Time?

यूनिवर्सल मानक समय का आविष्कार किसने किया?

**Options:**

- 1) Enrico Fermi  
एन्रिको फेर्मी
- 2) Adolf Gaston Eugen Fick  
एडॉल्फ गैस्टन यूजेन फिक
- 3) Sandford Fleming  
सैंडफोर्ड फ्लेमिंग
- 4) Benoit Fourneyron  
बेनोईट फोर्नेय्रॉन

**Correct Answer:** Sandford Fleming

सैंडफोर्ड फ्लेमिंग

**Candidate Answer:** [ NOT ANSWERED ]

**QID : 245** - \_\_\_\_\_ states that the total current entering a junction is equal to the total current leaving the junction.

\_\_\_\_\_ कहता है कि किसी जंक्शन में प्रवेश करने वाली कुल धारा उस जंक्शन को छोड़ने वाली कुल धारा के बराबर होती है।

**Options:**

- 1) Lenz's Law  
लेंज का नियम
- 2) Hooke's Law  
हुक का नियम
- 3) Ohm's Law  
ओम का नियम
- 4) Kirchhoff's First Law  
किरचौफ़ का प्रथम नियम

**Correct Answer:** Kirchhoff's First Law  
किरचौफ़ का प्रथम नियम

**Candidate Answer:** Kirchhoff's First Law  
किरचौफ़ का प्रथम नियम

**QID : 246** - Acceleration due to gravity on a planet decreases with \_\_\_\_\_.

एक ग्रह पर गुरुत्वाकर्षण के कारण \_\_\_\_\_ के साथ त्वरण कम हो जाता है।

**Options:**

- 1) decrease in radius of the planet  
ग्रह की त्रिज्या में घटने
- 2) increase in mass of the planet  
ग्रह की द्रव्यमान में वृद्धि
- 3) decrease in mass of the body  
ग्रह की मात्रा में कमी
- 4) increase in altitude from surface of the planet  
ग्रह की सतह से उँचाई में वृद्धि

**Correct Answer:** increase in altitude from surface of the planet  
ग्रह की सतह से उँचाई में वृद्धि

**Candidate Answer:** [ NOT ANSWERED ]

**QID : 247** - Who is the Chairman of NITI Aayog?

नीति आयोग के अध्यक्ष कौन है?

**Options:**

- 1) President  
राष्ट्रपति
- 2) RBI Governor  
आरबीआई गवर्नर
- 3) Finance Secretary  
वित्त सचिव
- 4) Prime Minister  
प्रधानमंत्री

**Correct Answer:** Prime Minister  
प्रधानमंत्री

**Candidate Answer:** Prime Minister  
प्रधानमंत्री

**QID : 248** - Who is the Chairman of the Rajya Sabha?

राज्य सभा के सभापति कौन हैं?

**Options:**

- 1) President of India  
भारत के राष्ट्रपति
- 2) Prime Minister of India  
भारत के प्रधानमंत्री
- 3) Vice President of India  
भारत के उप-राष्ट्रपति
- 4) Speaker of Lok Sabha  
लोक सभा के स्पीकर

**Correct Answer:** Vice President of India  
भारत के उप-राष्ट्रपति

**Candidate Answer:** Vice President of India  
भारत के उप-राष्ट्रपति

**QID : 249** - Shiva Thapa is related to \_\_\_\_\_.

शिवा थापा \_\_\_\_\_ से संबंधित है।

**Options:**

- 1) Badminton  
बैडमिंटन
- 2) Lawn tennis  
लॉन टेनिस
- 3) Boxing  
मुक्केबाजी
- 4) Cricket  
क्रिकेट

**Correct Answer:** Boxing

मुक्केबाजी

**Candidate Answer:** Badminton

बैडमिंटन

**QID : 250** - Who is the author of the book "My Truth".

"माई ट्रुथ" नामक पुस्तक के लेखक कौन है?

**Options:**

- 1) Khuswant Singh  
खुशवंत सिंह
- 2) Kiran Bedi  
किरण बेदी
- 3) Narendra Modi  
नरेंद्र मोदी
- 4) Indira Gandhi  
इंदिरा गाँधी

**Correct Answer:** Indira Gandhi

इंदिरा गाँधी

**Candidate Answer:** Indira Gandhi

इंदिरा गाँधी

**QID : 251** - P and Q can do a project in 12 and 12 days respectively. In how many days can they complete 50% of the project if they work together?

P और Q क्रमशः 12 और 12 दिनों में एक परियोजना कर सकते हैं। कितने दिनों में वे परियोजना का 50% को पूरा करता है, यदि वे एक साथ काम करें ?

**Options:**

- 1) 6 days  
6 दिन
- 2) 3 days  
3 दिन
- 3) 18 days  
18 दिन
- 4) 1.5 days  
1.5 दिन

**Correct Answer:** 3 days

3 दिन

**Candidate Answer:** 3 days

3 दिन

**QID : 252** - If  $4(x + 5) - 3 > 6 - 4x \geq x - 5$ ; then the value of x is

यदि  $4(x + 5) - 3 > 6 - 4x \geq x - 5$ ; तो x का क्या मान है?

**Options:**

- 1) -2
- 2) -1
- 3) 3
- 4) 4

**Correct Answer:** -1

**Candidate Answer:** -1

**QID : 253** - The point R(a,b) is first reflected in origin to R1 and R1 is reflected in x-axis to (-4,2). The co-ordinates of point R are

बिंदु R(a, b) प्रथम मूल पर R1 पर प्रतिबिंबित होता है और फिर R1 x-अक्ष पर (-4,2) पर प्रतिबिंबित होता है। बिंदु R के निर्देशांक क्या हैं?

**Options:**

- 1) (-4,-2)
- 2) (-4,2)
- 3) (4,2)
- 4) (4,-2)

**Correct Answer:** (4,2)

**Candidate Answer:** [ NOT ANSWERED ]

**QID : 254** - For triangle PQR, find equation of altitude PS if co-ordinates of P, Q and R are (1,2), (2,-1) and (0,5) respectively?

त्रिभुज PQR के लिए, यदि P, Q और R के निर्देशांक क्रमशः (1,2), (2, -1) और (0,5) हैं, तो ऊँचाई PS का समीकरण क्या होगा?

**Options:**

- 1)  $x - 3y = -7$
- 2)  $x + 3y = -5$
- 3)  $x - 3y = -5$
- 4)  $x + 3y = -7$

**Correct Answer:**  $x - 3y = -5$

**Candidate Answer:**  $x - 3y = -5$

**QID : 255** - If  $\sec 300^\circ = x$ , then value of  $x$  is

$\sec 300^\circ = x$ , तो  $x$  का क्या मान है?

**Options:**

- 1)  $-\sqrt{2}$
- 2)  $1/\sqrt{3}$
- 3) 2
- 4) -1

**Correct Answer:** 2

**Candidate Answer:**  $1/\sqrt{3}$

**QID : 256** - To cover a distance of 225 km in 2.5 hours what should be the average speed of the car in meters/second?

2.5 घंटों में 225 कि.मी. की दूरी तय करने के लिए, मीटर/सेकंड में कार की औसत गति कितनी होनी चाहिए ?

**Options:**

- 1) 90 m/s  
90 मीटर/सेकंड
- 2) 45 m/s  
45 मीटर/सेकंड
- 3) 50 m/s  
50 मीटर/सेकंड
- 4) 25 m/s  
25 मीटर/सेकंड

**Correct Answer:** 25 m/s

25 मीटर/सेकंड

**Candidate Answer:** 25 m/s

25 मीटर/सेकंड

**QID : 257** - An angle is greater than its complementary angle by  $30^\circ$ . Find the measure of the angle?

एक कोण  $30^\circ$  से उसके पूरक की तुलना में अधिक है। कोण का माप क्या है?

**Options:**

- 1)  $30^\circ$
- 2)  $90^\circ$
- 3)  $60^\circ$
- 4)  $120^\circ$

**Correct Answer:**  $60^\circ$

**Candidate Answer:**  $60^\circ$

**QID : 258** - A rice trader buys 8 quintals of rice for Rs 3,600. 10% rice is lost in transportation. At what rate should he sell to earn 15% profit?

एक चावल व्यापारी 3,600 रु में 8 क्विंटल चावल खरीदता है। 10% चावल परिवहन में खराब/गुम हो जाता है। उसे 15% लाभ प्राप्त करने के लिए कितनी दर पर चावल बेचना चाहिए?

**Options:**

- 1) Rs 352.1 per quintal  
352.1 रु प्रति क्विंटल
- 2) Rs 517.5 per quintal  
517.5 रु प्रति क्विंटल
- 3) Rs 575 per quintal  
575 रु प्रति क्विंटल
- 4) Rs 582.3 per quintal  
582.3 रु प्रति क्विंटल

**Correct Answer:** Rs 575 per quintal

575 रु प्रति क्विंटल

**Candidate Answer:** Rs 517.5 per quintal

517.5 रु प्रति क्विंटल



**QID : 259** - What is the value of  $(\frac{3}{5} + \frac{7}{9})$ ?

$(\frac{3}{5} + \frac{7}{9})$  का मान क्या है?

**Options:**

- 1)  $\frac{62}{45}$
- 2)  $\frac{31}{28}$
- 3)  $\frac{5}{7}$
- 4)  $\frac{1}{7}$

**Correct Answer:**  $\frac{62}{45}$

**Candidate Answer:**  $\frac{62}{45}$

**QID : 260** - Marked price of an item is Rs 200. On purchase of 1 item discount is 5%, on purchase of 2 items discount is 14%. Rajeshri buys 3 items, what is the effective discount?

एक वस्तु की चिह्नित कीमत 200 रु है। 1 वस्तु की खरीद पर 5% छूट मिलती है, 2 वस्तु की खरीद पर 14% छूट मिलती है। राजेश्री 3 वस्तु खरीदती है, तो उसे कितनी प्रभावी छूट मिलेगी?

**Options:**

- 1) 37 percent  
37 प्रतिशत
- 2) 26.25 percent  
26.25 प्रतिशत
- 3) 11 percent  
11 प्रतिशत
- 4) 30.2 percent  
30.2 प्रतिशत

**Correct Answer:** 11 percent

11 प्रतिशत

**Candidate Answer:** 26.25 percent

26.25 प्रतिशत

**QID : 261** - If the radius of a circle is increased by 16%, its area increases by

यदि एक वृत्त की त्रिज्या में 16% की वृद्धि की जाती है, तो उसका क्षेत्रफल कितने प्रतिशत से बढ़ जाएगा?

**Options:**

- 1) 34.56 percent  
34.56 प्रतिशत
- 2) 32 percent  
32 प्रतिशत
- 3) 16 percent  
16 प्रतिशत
- 4) 17.28 percent  
17.28 प्रतिशत

**Correct Answer:** 34.56 percent

34.56 प्रतिशत

**Candidate Answer:** 34.56 percent

34.56 प्रतिशत

**QID : 262** - Expand and simplify  $(x + 4)^2 + (x - 2)^2$

$(x + 4)^2 + (x - 2)^2$  को विस्तारित कीजिये और हल कीजिये।

**Options:**

- 1)  $2(x^2 + 2x + 10)$
- 2)  $2(x^2 + 2x - 10)$
- 3)  $2(x^2 - 2x + 10)$
- 4)  $2(x^2 - 2x - 10)$

**Correct Answer:**  $2(x^2 + 2x + 10)$

**Candidate Answer:**  $2(x^2 + 2x + 10)$

**QID : 263** - A cone is hollowed out of a solid wooden cube of side 6 cm. The diameter and height of the cone is same as the side of the cube. What is the volume of the remaining cube?

एक शंकु को 6 से.मी. की भुजा वाले एक लकड़ी के ठोस घन को खोखला कर के बनाया जाता है। शंकु की ऊंचाई और व्यास घन के भुजा के बराबर ही है। बचे हुए घन का आयतन क्या है?

**Options:**

- 1) 159.42 cubic cms  
159.43 घन से.मी.
- 2) 323.15 cubic cms  
323.15 घन से.मी.
- 3) 106.33 cubic cms  
106.33 घन से.मी.
- 4) 210.66 cubic cms  
210.66 घन से.मी.

**Correct Answer:** 159.42 cubic cms  
159.43 घन से.मी.

**Candidate Answer:** 159.42 cubic cms  
159.43 घन से.मी.

**QID : 264** - In  $\Delta ABC$ , the median AD is 7 cm and CB is 14 cm, measure of  $\angle CAB$  is

$\Delta ABC$  में, माध्य AD 7 से.मी. है और CB 14 से.मी. है,  $\angle CAB$  की माप क्या है?

**Options:**

1)  $30^\circ$

2)  $60^\circ$

3)  $90^\circ$

4)  $120^\circ$

**Correct Answer:**  $90^\circ$

**Candidate Answer:**  $90^\circ$

**QID : 265** - Among three numbers, the first is twice the second and thrice the third. If the average of three numbers is 198, then what is the difference between the first and the third number?

तीन संख्याओं के बीच में, पहली संख्या दूसरी संख्या से दोगुनी और तीसरी संख्या से तीन गुनी है। यदि उन तीन संख्याओं का औसत 198 है, तो पहली और तीसरी संख्याओं के बीच कितना अंतर है?

**Options:**

1) 216

2) 297

3) 661

4) 431

**Correct Answer:** 216

**Candidate Answer:** 216

**QID : 266** - If  $\sec A / \sqrt{\sec^2 A - 1} = x$ , then value of x is

$\sec A / \sqrt{\sec^2 A - 1} = x$ , तो x का क्या मान है?

**Options:**

1)  $\tan A$

2)  $\operatorname{cosec} A$

3)  $\sin A$

4)  $\cos A$

**Correct Answer:**  $\operatorname{cosec} A$

**Candidate Answer:**  $\operatorname{cosec} A$

**QID : 267** - If Gangadhar's salary is  $\frac{3}{11}$  times of Hari's and Shambhu's is  $\frac{3}{4}$  times of Hari's, what is the ratio of Gangadhar's salary to Shambhu's?

यदि गंगाधर का वेतन हरी के वेतन से  $\frac{3}{11}$  गुना है और शंभू का वेतन हरी के वेतन से  $\frac{3}{4}$  गुना है, तो गंगाधर और शंभू के वेतन का अनुपात क्या होगा?

**Options:**

1) 44:9

2) 4:11

3) 9:44

4) 11:4

**Correct Answer:** 4:11

**Candidate Answer:** 4:11

**QID : 268** - If  $a + b = 8$  and  $ab = 15$ , then  $a^3 + b^3$  is

यदि  $a + b = 8$  और  $ab = 15$ , तो  $a^3 + b^3$  का मान क्या होगा?

**Options:**

1) 224

2) 244

3) 152

4) 128

**Correct Answer:** 152

**Candidate Answer:** 152

**QID : 269** - What is the value of  $(1 + \cot A)^2 + (1 - \cot A)^2$ ?

$(1 + \cot A)^2 + (1 - \cot A)^2$  का क्या मान है?

**Options:**

- 1)  $2\operatorname{cosec}^2 A$
- 2)  $2\sec^2 A$
- 3)  $1 - 2\operatorname{cosec}^2 A$
- 4)  $1 - 2\sec^2 A$

**Correct Answer:**  $2\operatorname{cosec}^2 A$

**Candidate Answer:**  $2\operatorname{cosec}^2 A$

**QID : 270** - The sum of twice a number and thrice its reciprocal is  $25/2$ . What is the number?

एक संख्या का दुगना और उसके व्युत्क्रम के तीन गुना का योग  $25/2$  है। वह संख्या क्या है?

**Options:**

- 1) 7
- 2) 6
- 3) 5
- 4) 4

**Correct Answer:** 6

**Candidate Answer:** 6

**QID : 271** - A sum fetched a total simple interest of Rs. 7728 at the rate of 7% per year in 8 years. What is the sum?

8 वर्षों में 7% वार्षिक दर से एक राशि पर 7728 रु का साधारण ब्याज बन जाता है। यह राशि कितनी है?

**Options:**

- 1) Rs 13800  
13800 रु
- 2) Rs 16560  
16560 रु
- 3) Rs 11040  
11040 रु
- 4) Rs 8280  
8280 रु

**Correct Answer:** Rs 13800

13800 रु

**Candidate Answer:** Rs 13800

13800 रु

**QID : 272** -

Refer the below data table and answer the following Question.

नीचे दिये गए डेटा तालिका के आधार पर निम्नलिखित प्रश्न का उत्तर दें।

	Number of employees कर्मचारियों की संख्या	Annual salary (in lakhs) वार्षिक वेतन (लाखों में)	Bonus as percent of annual salary वार्षिक वेतन के प्रतिशत के रूप में बोनस
Manager / प्रबंधक	3	60	30%
Executive / कार्यकारी	6	12	30%
Trainee / प्रशिक्षु	4	4	20%

What is the average bonus (in rupees)?

औसत बोनस (रुपये में) कितना है?

**Options:**

- 1) 606154
- 2) 7880002
- 3) 253333
- 4) 224000

**Correct Answer:** 606154

Candidate Answer: 606154

QID : 273 -

Refer the below data table and answer the following Question.

नीचे दिये गए डेटा तालिका के आधार पर निम्नलिखित प्रश्न का उत्तर दें।

	2011	2012	2013	2014	2015
Company A / कंपनी A	3000	3000	1000	2000	2000
Company B / कंपनी B	5000	4000	2000	3000	4000
Company C / कंपनी C	3000	5000	3000	4000	5000

For which of the following pairs of years the total exports from the three Companies together are equal?

(Note: Figures given are in lakh rupees)

निम्न में से वर्षों की कौन सी जोड़ी के लिए तीनों कंपनियों का कुल निर्यात बराबर है?

(नोट: दिए गए आँकड़े लाख रुपए में हैं)

Options:

1) 2011 &amp; 2013

2011 एवं 2013

2) 2013 &amp; 2015

2013 एवं 2015

3) 2011 &amp; 2015

2011 एवं 2015

4) 2014 &amp; 2015

2014 एवं 2015

Correct Answer: 2011 &amp; 2015

2011 एवं 2015

Candidate Answer: 2011 &amp; 2015

2011 एवं 2015

QID : 274 -

Refer the below data table and answer the following Question.

नीचे दिये गए डेटा तालिका के आधार पर निम्नलिखित प्रश्न का उत्तर दें।

Year वर्ष	Profit or (-Loss) in Rs Crore करोड़ रूपये में लाभ या (-नुकसान)
2011	5
2012	15
2013	-20
2014	-15
2015	-5

What was the total Profit or loss of the company in last 5 years?

पिछले पांच वर्षों में कंपनी का कुल लाभ या नुकसान कितना था?

Options:

1) Profit of Rs 20 crores

20 करोड़ रु का लाभ

2) Loss of Rs 30 crores

30 करोड़ रु का नुकसान

3) Loss of Rs 20 crores

20 करोड़ रु का नुकसान

4) Profit of Rs 30 crores

30 करोड़ रु का लाभ

Correct Answer: Loss of Rs 20 crores

20 करोड़ रु का नुकसान

Candidate Answer: Loss of Rs 20 crores

20 करोड़ रु का नुकसान

**QID : 275 -**

Refer the below data table and answer the following Question.

नीचे दिये गए डेटा तालिका के आधार पर निम्नलिखित प्रश्न का उत्तर दें।

India's exports in 2015 वर्ष 2015 में भारत का निर्यात	Value in million US\$ मिलियन डॉलर में मूल्य
Jewellery / जेवर	550
Software / सॉफ्टवेयर	700
Cotton / कपास	875
Steel / इस्पात	775
Electronics / इलेक्ट्रॉनिक्स	550

Software was what percent of total exports?

सॉफ्टवेयर का निर्यात भारत के कुल निर्यात का कितना प्रतिशत था?

**Options:**

- 1) 20.29 percent  
20.29 प्रतिशत
- 2) 22.79 percent  
22.79 प्रतिशत
- 3) 25.29 percent  
25.29 प्रतिशत
- 4) 17.79 percent  
17.79 प्रतिशत

**Correct Answer:** 20.29 percent  
20.29 प्रतिशत

**Candidate Answer:** 20.29 percent  
20.29 प्रतिशत

**QID : 276 -** Select the synonym of

pal

**Options:**

- 1) buddy
- 2) lad
- 3) foe
- 4) dude

**Correct Answer:** buddy

**Candidate Answer:** lad

**QID : 277 -** In the following question, out of the four alternatives, select the alternative which is the best substitute of the phrase.

having a sensation of whirling and a tendency to fall or stagger

**Options:**

- 1) volatile
- 2) wild
- 3) reckless
- 4) giddy

**Correct Answer:** giddy

**Candidate Answer:** volatile

**QID : 278 -** Improve the bracketed part of the sentence.

(It is no good to cry) over past failures.

**Options:**

- 1) It is of no good crying
- 2) It is of no good to cry
- 3) It is no good crying
- 4) no improvement

**Correct Answer:** It is no good crying

**Candidate Answer:** It is no good crying

**QID : 279** - In the following question, some part of the sentence may have errors. Find out which part of the sentence has an error and select the appropriate option. If a sentence is free from error, select 'No Error'.

**Sairat is one of the latest(A)/in the list of contemporary Marathi movies(B)/which appeared in recent times.(C)/No error(D)**

**Options:**

- 1) A
- 2) B
- 3) C
- 4) D

**Correct Answer: C**

**Candidate Answer: C**

**QID : 280** - In the following question, the sentence given with blank to be filled in with an appropriate word. Select the correct alternative out of the four and indicate it by selecting the appropriate option.

**A month before he was scheduled to be hanged from the \_\_\_\_\_, the president granted him clemency.**

**Options:**

- 1) gallows
- 2) balcony
- 3) stands
- 4) frame

**Correct Answer: gallows**

**Candidate Answer: gallows**

**QID : 281** - In the following question, out of the four alternatives, select the alternative which best expresses the meaning of the idiom/phrase.

**If you can't beat 'em, join 'em**

**Options:**

- 1) Many times those who fight eventually become best of friends
- 2) If one has to give up fighting with some group because one can't win, band together with them
- 3) Not to hurt others. Instead, be friends with them.
- 4) To fight till you get acceptance to a group which does not initially accept you as a member

**Correct Answer: If one has to give up fighting with some group because one can't win, band together with them**

**Candidate Answer: Not to hurt others. Instead, be friends with them.**

**QID : 282** - Select the antonym of

**bequeath**

**Options:**

- 1) receive
- 2) impart
- 3) bestow
- 4) entrust

**Correct Answer: receive**

**Candidate Answer: receive**

**QID : 283** - Choose the antonym of

**stun**

**Options:**

- 1) petrify
- 2) calm
- 3) flabbergast
- 4) stupefy

**Correct Answer: calm**

**Candidate Answer: calm**

**QID : 284** - In the following question, a sentence has been given in Active/Passive voice. Out of four alternatives suggested, select the one, which best expresses the same sentence in Passive/Active voice.

**Preeti ran the race in record time.**

**Options:**

- 1) In record time Preeti ran the race.
- 2) The race was run by Preeti in record time.
- 3) The race was being run by Preeti in record time.
- 4) The race had been ran by Preeti in record time.

**Correct Answer: The race was run by Preeti in record time.**

**Candidate Answer: The race was run by Preeti in record time.**

**QID : 285** - Improve the bracketed part of the sentence.

I went to sleep last night, (**almost as soon as**) my head hit the pillow.

**Options:**

- 1) no sooner then
- 2) as quickly as
- 3) almost as quickly as
- 4) no improvement

**Correct Answer:** no improvement

**Candidate Answer:** as quickly as

**QID : 286** - Select the word with the correct spelling.

**Options:**

- 1) aplauds
- 2) neonaetes
- 3) bestiary
- 4) pinnioned

**Correct Answer:** bestiary

**Candidate Answer:** bestiary

**QID : 287** - In the following question, out of the four alternatives, select the alternative which best expresses the meaning of the idiom/phrase.

**All good things must come to an end**

**Options:**

- 1) Even enjoyable experiences cannot last for ever
- 2) A good story should always have a happy ending
- 3) The world will be destroyed one day
- 4) Only bad things can continue forever. Life of good things feel short.

**Correct Answer:** Even enjoyable experiences cannot last for ever

**Candidate Answer:** Even enjoyable experiences cannot last for ever

**QID : 288** - Select the synonym of

**to defile**

**Options:**

- 1) to esteem
- 2) to besmirch
- 3) to elevate
- 4) to sanctify

**Correct Answer:** to besmirch

**Candidate Answer:** to esteem

**QID : 289** - In the following question, some part of the sentence may have errors. Find out which part of the sentence has an error and select the appropriate option. If a sentence is free from error, select 'No Error'.

**I am better(A)/adapted to the(B)/climate than you.(C)/No error(D)**

**Options:**

- 1) A
- 2) B
- 3) C
- 4) D

**Correct Answer:** D

**Candidate Answer:** C

**QID : 290** - Rearrange the parts of the sentence in correct order.

**It is high time**

**P-about the cost and**

**Q-the government started thinking**

**R-quality of power supply**

**Options:**

- 1) RPQ
- 2) QRP
- 3) QPR
- 4) PRQ

**Correct Answer:** QPR

**Candidate Answer:** QPR

**QID : 291** - Rearrange the parts of the sentence in correct order.

**For India, therefore,**

**P-a priority along with nuclear safety**

**Q-nuclear security is not a new objective,**

**R-but has always been**

**Options:**

- 1) RQP
- 2) RPQ
- 3) PRQ
- 4) QRP

**Correct Answer:** QRP

**Candidate Answer:** QRP

**QID : 292** - Select the word with the correct spelling.

**Options:**

- 1) frackture
- 2) thiners
- 3) aproved
- 4) divining

**Correct Answer:** divining

**Candidate Answer:** divining

**QID : 293** - In the following question, the sentence given with blank to be filled in with an appropriate word. Select the correct alternative out of the four and indicate it by selecting the appropriate option.

The researchers are \_\_\_\_\_ into the mode of life of diabetes patients as diabetes is a lifestyle ailment.

**Options:**

- 1) inspecting
- 2) investigating
- 3) observing
- 4) seeing

**Correct Answer:** investigating

**Candidate Answer:** observing

**QID : 294** - In the following question, a sentence has been given in Direct/Indirect speech. Out of the four alternatives suggested, select the one, which best express the same sentence in Indirect/Direct speech.

**Puneet said, "I have been reading a story book".**

**Options:**

- 1) Puneet said he has been reading a story book.
- 2) Puneet said that he had been reading a story book.
- 3) Puneet said that he has been reading a story book.
- 4) Puneet said that he had read a story book.

**Correct Answer:** Puneet said that he had been reading a story book.

**Candidate Answer:** Puneet said that he had been reading a story book.

**QID : 295** - In the following question, out of the four alternatives, select the alternative which is the best substitute of the phrase.

**a person who is not accepted by a social group, especially because he or she is not liked, respected, or trusted**

**Options:**

- 1) fugitive
- 2) vagrant
- 3) pariah
- 4) tramp

**Correct Answer:** pariah

**Candidate Answer:** pariah

**QID : 296** - In the following passage, some of the words have been left out. Read the passage carefully and select the correct answer for the given blank out of the four alternatives.

The new claim that \_\_\_\_\_ out of misplaced confidence that all that is in education can be \_\_\_\_\_ is that the 'per unit cost of outcome' is lower in private schools. Meaning that even \_\_\_\_\_ the learning outcomes of private schools are not better \_\_\_\_\_ the public schools, the cost \_\_\_\_\_ running private schools is much lower.

The new claim that \_\_\_\_\_ out of misplaced

**Options:**

- 1) emerging
- 2) emerge
- 3) was emerged
- 4) emerged

**Correct Answer:** emerged

**Candidate Answer:** emerge



**QID : 297** - In the following passage, some of the words have been left out. Read the passage carefully and select the correct answer for the given blank out of the four alternatives.

The new claim that \_\_\_\_\_ out of misplaced confidence that all that is in education can be \_\_\_\_\_ is that the 'per unit cost of outcome' is lower in private schools. Meaning that even \_\_\_\_\_ the learning outcomes of private schools are not better \_\_\_\_\_ the public schools, the cost \_\_\_\_\_ running private schools is much lower.

education can be \_\_\_\_\_ is that the 'per unit cost of outcome' is lower in private schools.

**Options:**

- 1) quantified
- 2) counted
- 3) totalled
- 4) scored

**Correct Answer:** quantified

**Candidate Answer:** counted

**QID : 298** - In the following passage, some of the words have been left out. Read the passage carefully and select the correct answer for the given blank out of the four alternatives.

The new claim that \_\_\_\_\_ out of misplaced confidence that all that is in education can be \_\_\_\_\_ is that the 'per unit cost of outcome' is lower in private schools. Meaning that even \_\_\_\_\_ the learning outcomes of private schools are not better \_\_\_\_\_ the public schools, the cost \_\_\_\_\_ running private schools is much lower.

Meaning that even \_\_\_\_\_ the learning outcomes of private schools

**Options:**

- 1) if
- 2) when
- 3) whereas
- 4) as

**Correct Answer:** if

**Candidate Answer:** as

**QID : 299** - In the following passage, some of the words have been left out. Read the passage carefully and select the correct answer for the given blank out of the four alternatives.

The new claim that \_\_\_\_\_ out of misplaced confidence that all that is in education can be \_\_\_\_\_ is that the 'per unit cost of outcome' is lower in private schools. Meaning that even \_\_\_\_\_ the learning outcomes of private schools are not better \_\_\_\_\_ the public schools, the cost \_\_\_\_\_ running private schools is much lower.

better \_\_\_\_\_ the public schools

**Options:**

- 1) then
- 2) than
- 3) to
- 4) as

**Correct Answer:** than

**Candidate Answer:** than

**QID : 300** - In the following passage, some of the words have been left out. Read the passage carefully and select the correct answer for the given blank out of the four alternatives.

The new claim that \_\_\_\_\_ out of misplaced confidence that all that is in education can be \_\_\_\_\_ is that the 'per unit cost of outcome' is lower in private schools. Meaning that even \_\_\_\_\_ the learning outcomes of private schools are not better \_\_\_\_\_ the public schools, the cost \_\_\_\_\_ running private schools is much lower.

the cost \_\_\_\_\_ running private schools is much lower.

**Options:**

- 1) for
- 2) about
- 3) of
- 4) with

**Correct Answer:** of

**Candidate Answer:** for