



**Staff Selection Commission**  
(Government Of India)

**REGISTRATION NUMBER :** [WWW.QMATHS.IN](http://WWW.QMATHS.IN)  
**EXAM DATE :** 8-January-2017  
**EXAM NAME :** SSC Examination 2016  
**TOTAL MARKS :** 200

**CANDIDATE NAME :** [WWW.QMATHS.IN](http://WWW.QMATHS.IN)  
**EXAM START TIME :** 16:15:00  
**EXAM DURATION :** 01:15 Hrs  
**TOTAL NO OF QUESTIONS :** 100

**QID : 101** - Select the related word/letters/number from the given alternatives.

Agra : Yamuna :: Varanasi : ?

दिए गए विकल्पों में से संबंधित शब्द/अक्षरों/संख्या को चुनिए।

आगरा : यमुना :: वाराणसी : ?

**Options:**

- 1) Damodar  
दामोदर
- 2) Betwa  
बेतवा
- 3) Ganga  
गंगा
- 4) Son  
सोन

**Correct Answer:** Ganga

गंगा

**Candidate Answer:** Ganga

गंगा

**QID : 102** - Select the related word/letters/number from the given alternatives.

IJ : PR :: ? : SU

दिए गए विकल्पों में से संबंधित शब्द/अक्षरों/संख्या को चुनिए।

IJ : PR :: ? : SU

**Options:**

- 1) IJ
- 2) LM
- 3) EF
- 4) LI

**Correct Answer:** LM

**Candidate Answer:** LM

**QID : 103** - Select the related word/letters/number from the given alternatives.

CD : IP :: EB : ?

दिए गए विकल्पों में से संबंधित शब्द/अक्षरों/संख्या को चुनिए।

CD : IP :: EB : ?

**Options:**

- 1) HI
- 2) KN
- 3) YA
- 4) XY

**Correct Answer:** KN

**Candidate Answer:** KN

**QID : 104** - Select the related word/letters/number from the given alternatives.

12 : 72 :: 14 : ?

दिए गए विकल्पों में से संबंधित शब्द/अक्षरों/संख्या को चुनिए।

12 : 72 :: 14 : ?

**Options:**

- 1) 98
- 2) 91
- 3) 42
- 4) 60

**Correct Answer:** 98

**Candidate Answer:** 98

**QID : 105** - Find out the odd word/letters/number/number pair from the given alternatives.

दिए गए विकल्पों में से विषम शब्द/अक्षर/संख्या/संख्या युग्म चुनिए।

**Options:**

- 1) Param Vir Chakra  
परमवीर चक्र
- 2) Ashoka Chakra  
अशोक चक्र
- 3) Vir Chakra  
वीर चक्र
- 4) Maha Vir Chakra  
महावीर चक्र

**Correct Answer:** Ashoka Chakra

अशोक चक्र

**Candidate Answer:** Ashoka Chakra

अशोक चक्र

**QID : 106** - Find out the odd word/letters/number/number pair from the given alternatives.

दिए गए विकल्पों में से विषम शब्द/अक्षर/संख्या/संख्या युग्म चुनिए।

**Options:**

- 1) BG
- 2) HN
- 3) SY
- 4) PV

**Correct Answer:** BG

**Candidate Answer:** BG

**QID : 107** - Find out the odd word/letters/number/number pair from the given alternatives.

दिए गए विकल्पों में से विषम शब्द/अक्षर/संख्या/संख्या युग्म चुनिए।

**Options:**

- 1) 4312
- 2) 4216
- 3) 9218
- 4) 3618

**Correct Answer:** 4216

**Candidate Answer:** [ NOT ANSWERED ]

**QID : 108** - Find out the odd word/letters/number/number pair from the given alternatives.

दिए गए विकल्पों में से विषम शब्द/अक्षर/संख्या/संख्या युग्म चुनिए।

**Options:**

- 1) 64, 23
- 2) 42, 12
- 3) 63, 18
- 4) 83, 20

**Correct Answer:** 83, 20

**Candidate Answer:** 83, 20

**QID : 109** - A series is given with one term missing. Choose the correct alternative from the given ones that will complete the series.

Beijing Olympics, London Olympics, Rio Olympics, ?

एक अनुक्रम दिया गया है, जिसमें से एक पद लुप्त है। दिए गए विकल्पों में से वह सही विकल्प चुनिए जो अनुक्रम को पूरा करे।

बीजिंग ओलंपिक, लंदन ओलंपिक, रियो ओलंपिक, ?

**Options:**

- 1) Moscow Olympics  
मास्को ओलंपिक
- 2) Athens Olympics  
एथेंस ओलंपिक
- 3) Tokyo Olympics  
टोक्यो ओलंपिक
- 4) Delhi Olympics  
दिल्ली ओलंपिक

**Correct Answer:** Tokyo Olympics

टोक्यो ओलंपिक

**Candidate Answer:** Tokyo Olympics  
टोक्यो ओलंपिक

**QID : 110** - A series is given with one term missing. Choose the correct alternative from the given ones that will complete the series.

5, 10, 13, 52, 57, ?

एक अनुक्रम दिया गया है, जिसमें से एक पद लुप्त है। दिए गए विकल्पों में से वह सही विकल्प चुनिए जो अनुक्रम को पूरा करे।

5, 10, 13, 52, 57, ?

**Options:**

- 1) 285
- 2) 225
- 3) 342
- 4) 390

**Correct Answer:** 342

**Candidate Answer:** [ NOT ANSWERED ]

**QID : 111** - In the following question, two statements are given each followed by two conclusions I and II. You have to consider the statement to be true even if they seem to be at variance from commonly known facts. You have to decide which of the given conclusions, if any, follows from the given statements.

**Statements:**

- (I) All hill-stations have a sunset point.
- (II) X is a hill station.

**Conclusion:**

- (I) X has a sunset point.
- (II) Place other than hill-station do not have sunset point.

निम्नलिखित प्रश्न में, दो कथन दिए गए हैं जिनके आगे दो निष्कर्ष I और II निकाले गए हैं। आपको मानना है कि कथन सत्य है चाहे वे सामान्यतः ज्ञात तथ्यों से भिन्न प्रतीतहोते हों। आपको निर्णय करना है कि दिए गए निष्कर्षों में से कौन सा/कौन से निश्चित रूप से कथनों द्वारा सही निकाला जा सकता है/सकते हैं, यदि कोई हो।

**कथन:**

- (I) सभी पर्वतीय स्थलों पर सूर्यास्त बिंदु होता है।
- (II) X एक पर्वतीय स्थल है।

**निष्कर्ष:**

- (I) X का एक सूर्यास्त बिंदु है।
- (II) पर्वतीय स्थलों के अलावा अन्य स्थलों का सूर्यास्त बिंदु नहीं होता।

**Options:**

- 1) Conclusion I follows  
निष्कर्ष I सही है
- 2) Conclusion II follows  
निष्कर्ष II सही है
- 3) Neither I nor II follows  
न तो I और न ही II सही है
- 4) Both I and II follows  
I और II दोनों सही हैं

**Correct Answer:** Conclusion I follows  
निष्कर्ष I सही है

**Candidate Answer:** Conclusion I follows  
निष्कर्ष I सही है

**QID : 112** - A series is given with one term missing. Choose the correct alternative from the given ones that will complete the series.

BE, HK, NQ, ?

एक अनुक्रम दिया गया है, जिसमें से एक पद लुप्त है। दिए गए विकल्पों में से वह सही विकल्प चुनिए जो अनुक्रम को पूरा करे।

BE, HK, NQ, ?

**Options:**

- 1) ST
- 2) TU
- 3) TW
- 4) TS

**Correct Answer:** TW

**Candidate Answer:** TW

**QID : 113** - A series is given with one term missing. Choose the correct alternative from the given ones that will complete the series.

?, YV, BY, FC

एक अनुक्रम दिया गया है, जिसमें से एक पद लुप्त है। दिए गए विकल्पों में से वह सही विकल्प चुनिए जो अनुक्रम को पूरा करे।

?, YV, BY, FC

Options:

- 1) MN
- 2) VS
- 3) XU
- 4) WT

Correct Answer: WT

Candidate Answer: WT

**QID : 114** - In a company all Mondays and Sundays are offs. If a month starts with a Monday and has 31 days then how manys offs will be there in that month?

एक कंपनी में सभी सोमवार और रविवार को छुट्टी होती है। यदि एक माह सोमवार से शुरू हो रहा हो और उसमें 31 दिन हो, तो उस माह में उस कंपनी में कितनी छुट्टियाँ होंगी?

Options:

- 1) 7
- 2) 8
- 3) 9
- 4) 5

Correct Answer: 9

Candidate Answer: 9

**QID : 115** - Arrange the given words in the sequence in which they occur in the dictionary.

- i. Speaker
- ii. Surreptitious
- iii. Spontaneous
- iv. Spurious

निम्नलिखित शब्दों को शब्दकोश में आने वाले क्रम के अनुसार लिखें।

- i. Speaker
- ii. Surreptitious
- iii. Spontaneous
- iv. Spurious

Options:

- 1) iv, ii, i, iii
- 2) iii, ii, iv, i
- 3) iv, iii, i, ii
- 4) i, iii, iv, ii

Correct Answer: i, iii, iv, ii

Candidate Answer: i, iii, iv, ii

**QID : 116** - In a certain code language, "CONDITION" is written as "@#^\$\*!#^". How is "NOTION" written in that code language?

एक विशिष्ट कोड भाषा में "CONDITION" को "@#^\$\*!#^" लिखा जाता है। इस कोड भाषा में "NOTION" को किस प्रकार लिखा जाएगा?

Options:

- 1) ^#!\*^#
- 2) ^!##\*#^
- 3) ^#!\*!#^
- 4) ^#!\*#^

Correct Answer: ^#!\*#^

Candidate Answer: ^#!\*#^

**QID : 117** -

In the following question, select the missing number from the given series.

निम्नलिखित प्रश्न में दिए गए विकल्पों में से लुप्त अंक ज्ञात कीजिए।

8	5	6
7	?	8
57	46	49

Options:

- 1) 4
- 2) 2
- 3) 9
- 4) 5

Correct Answer: 9

Candidate Answer: 9

**QID : 118** - If "\*" denotes "added to", "&" denotes "divided by", "@" denotes "multiplied by" and "%" denotes "subtracted from", then  $135 \& 15 @ 10 \% 3 * 6 = ?$

यदि "\*" का अर्थ "जोड़" है, "&" का अर्थ "भाग" है, "@" का अर्थ "गुणा" है और "%" का अर्थ "घटाना" है, तो  $135 \& 15 @ 10 \% 3 * 6 = ?$

**Options:**

1) 47

2) 89

3) 93

4) 100

**Correct Answer:** 93

**Candidate Answer:** 93

**QID : 119** - In the following question, which one set of letters when sequentially placed at the gaps in the given letter series shall complete it?

m\_o\_mn\_p\_no\_

निम्नलिखित प्रश्न में अक्षरों का कौन सा समूह खाली स्थानों पर क्रमवार रखने से दी गई अक्षर श्रृंखला को पूरा करेगा?

m\_o\_mn\_p\_no\_

**Options:**

1) mmmno

2) ooppn

3) mnooo

4) npomp

**Correct Answer:** npomp

**Candidate Answer:** npomp

**QID : 120** - A man moves towards the east and then takes a left turn. After covering some distance in that direction, he takes a right turn and finally, takes another right turn. Which direction is the man facing now?

एक व्यक्ति पूर्व की ओर चलता है और फिर बाएं मुड़ जाता है। कुछ दूर उस दिशा में चलने के पश्चात, वह दाएं मुड़ जाता है और अंत में, एक बार फिर से दाएं मुड़ जाता है। अब उसका मुंह किस दिशा की ओर है?

**Options:**

1) West

पश्चिम

2) East

पूर्व

3) South

दक्षिण

4) North

उत्तर

**Correct Answer:** South

दक्षिण

**Candidate Answer:** South

दक्षिण

QID : 121 -

A word is represented by only one set of numbers as given in any one of the alternatives. The sets of numbers given in the alternatives are represented by two classes of alphabets as shown in the given two matrices. The columns and rows of Matrix-I are numbered from 0 to 4 and that of Matrix-II are numbered from 5 to 9. A letter from these matrices can be represented first by its row and next by its column, for example, 'N' can be represented by 21, 67 etc. and 'R' can be represented by 66, 57 etc. Similarly, you have to identify the set for the word 'TOAST'.

एक शब्द केवल एक संख्या-समूह द्वारा दर्शाया गया है, जैसा कि विकल्पों में से किसी एक में दिया गया है। विकल्पों में दिए गए संख्या-समूह अक्षरों के दो वर्गों द्वारा दर्शाए गए हैं, जैसा कि दिए गए दो आव्यूहों में है। आव्यूह-I के स्तम्भ और पंक्ति की संख्या 0 से 4 और आव्यूह-II की 5 से 9 है। इन आव्यूहों से एक अक्षर को पहले उसकी पंक्ति और बाद में स्तम्भ संख्या द्वारा दर्शाया जा सकता है। उदाहरण के लिए 'N' को 21, 67 आदि द्वारा दर्शाया जा सकता है तथा 'R' को 66, 57 आदि द्वारा दर्शाया जा सकता है। इसी तरह से आपको प्रश्न में दिए शब्द 'TOAST' के लिए समूह को पहचानना है।

**Matrix-I****आव्यूह - I**

	0	1	2	3	4
0	T	R	A	O	B
1	W	U	N	H	L
2	E	N	S	G	O
3	N	Y	P	O	M
4	H	T	O	F	A

**Matrix-II****आव्यूह - II**

	5	6	7	8	9
5	T	A	R	I	Q
6	X	R	N	W	B
7	C	S	O	E	U
8	S	N	T	M	S
9	G	B	E	R	A

**Options:**

1) 41, 33, 02, 88, 87

2) 55, 77, 56, 96, 00

3) 87, 02, 11, 86, 55

4) 00, 24, 44, 76, 41

**Correct Answer:** 00, 24, 44, 76, 41**Candidate Answer:** 00, 24, 44, 76, 41

**QID : 122** - Introducing a boy Rahul says, "He is the son of the brother of the only daughter of my maternal grandfather". How is the boy related to the Rahul?

एक लड़के का परिचय कराते हुए राहुल कहता है, "वह मेरे नाना की इकलौती बेटी के भाई का बेटा है।" वह लड़का, राहुल से कैसे संबंधित है?

**Options:**

1) Grandfather

दादा

2) Son

बेटा

3) Cousin / Brother

ममेरा भाई / भाई

4) Father

पिता

**Correct Answer:** Cousin / Brother

ममेरा भाई / भाई

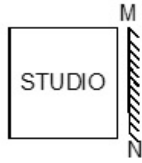
**Candidate Answer:** Cousin / Brother

ममेरा भाई / भाई

QID : 123 -

If a mirror is placed on the line MN, then which of the answer figures is the right image of the given figure?

यदि एक दर्पण को MN रेखा पर रखा जाए, तो दी गई उत्तर आकृतियों में से कौन सी आकृति प्रश्न आकृति का सही प्रतिबिम्ब होगी?



Options:

1)



2)



3)



4)



Correct Answer:



Candidate Answer:



QID : 124 - Identify the diagram that best represents the relationship among the given classes.

Liquid, Pizza, Milk

वह आरेख चुनिए जो नीचे दिए गए वर्गों के बीच के संबंध का सही निरूपण करता है।

द्रव, पिज्जा, दूध

Options:

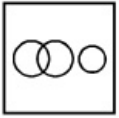
1)



2)



3)



4)



Correct Answer:



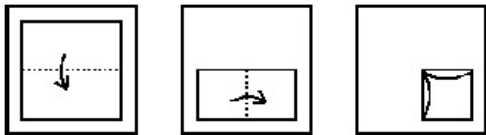
Candidate Answer:



QID : 125 -

A piece of paper is folded and punched as shown below in the question figures. From the given answer figures, indicate how it will appear when opened.

नीचे प्रश्न आकृतियों में दशयि अनुसार कागज को मोड़कर छेदने तथा खोलने के बाद वह किस उत्तर आकृति जैसा दिखाई देगा?





Options:

1)



2)



3)



4)



Correct Answer:



Candidate Answer:



QID : 126 - Which of the following is not an Operating System?

निम्नलिखित में से कौन सा एक ऑपरेटिंग सिस्टम नहीं है?

Options:

1) Windows Vista

विंडोज विस्टा

2) Linux

लायनक्स

3) Microsoft Office

माइक्रोसॉफ्ट ऑफिस

4) Apple's Mac OS

एपल का मैक ओएस

Correct Answer: Microsoft Office

माइक्रोसॉफ्ट ऑफिस

Candidate Answer: Microsoft Office

माइक्रोसॉफ्ट ऑफिस

QID : 127 - Venn diagram was invented by

वेन आरेख का \_\_\_\_\_ द्वारा आविष्कार किया गया था।

**Options:**

- 1) Lucien Vidi  
ल्यूसियेन विदि
- 2) John Venn  
जॉन वेन
- 3) Theophilus Van Kannel  
थियोफ़िलस वान केनल
- 4) Lewis Urry  
लुईस उरी

**Correct Answer:** John Venn  
जॉन वेन

**Candidate Answer:** John Venn  
जॉन वेन

**QID : 128** - What is the total number of bones in the human body?

मानव शरीर में कुल कितनी हड्डियाँ होती हैं?

**Options:**

- 1) 206
- 2) 103
- 3) 309
- 4) 412

**Correct Answer:** 206

**Candidate Answer:** 206

**QID : 129** - Emblica officinalis is the scientific name of

एम्ब्लिका ऑफीसिनेलिस (Emblica officinalis) \_\_\_\_\_ का वैज्ञानिक नाम है।

**Options:**

- 1) Peepal  
पीपल
- 2) Mango  
आम
- 3) Amla  
आंवला
- 4) Drumstick  
सहजन

**Correct Answer:** Amla  
आंवला

**Candidate Answer:** [ NOT ANSWERED ]

**QID : 130** - Sponges belongs to the phylum

स्पंज किस प्रजाति के अंतर्गत आते हैं?

**Options:**

- 1) Protozoa  
प्रोटोजुआ
- 2) Annelida  
एनिलिडा
- 3) Porifera  
पोरीफेरा
- 4) Cnidaria  
नीडेरिया

**Correct Answer:** Porifera  
पोरीफेरा

**Candidate Answer:** [ NOT ANSWERED ]

**QID : 131** - Release of which among the following is the primary reason for depletion of the ozone layer?

निम्नलिखित में से किसका मुक्त होना ओज़ोन परत के ह्रास होने का प्रमुख कारण है?

**Options:**

- 1) Nitrous oxide  
नाइट्रस ऑक्साइड
- 2) Hydrogen dioxide  
हायड्रोजन डायऑक्साइड
- 3) Chlorofluro carbon  
क्लोरोफ्लोरो कार्बन
- 4) Carbon monoxide  
कार्बन मोनोक्साइड

**Correct Answer:** Chlorofluro carbon  
क्लोरोफ्लोरो कार्बन

**Candidate Answer:** Carbon monoxide  
कार्बन मोनोक्साइड

**QID : 132** - Which of the following molecules is joined by a double covalent bond?

निम्नलिखित अणुओं में से कौन सा एक डबल सहसंयोजक बंधन द्वारा जुड़ा हुआ है?

**Options:**

1) Cl<sub>2</sub>

2) O<sub>2</sub>

3) N<sub>2</sub>

4) He<sub>2</sub>

**Correct Answer:** O<sub>2</sub>

**Candidate Answer:** O<sub>2</sub>

**QID : 133** - The renowned Temple at Ranakpur is a \_\_\_\_\_ Temple.

रणकपुर में स्थित प्रसिद्ध मंदिर एक \_\_\_\_\_ मंदिर है।

**Options:**

1) Shiva

शिव

2) Jain

जैन

3) Krishna

कृष्ण

4) Ram

राम

**Correct Answer:** Jain

जैन

**Candidate Answer:** Jain

जैन

**QID : 134** - Jallikattu is associated with \_\_\_\_\_.

जल्लीकट्टू \_\_\_\_\_ के साथ जुड़ा हुआ है।

**Options:**

1) Trichur

त्रिचुर

2) Karthigai

कार्तिगाई

3) Onam

ओणम

4) Pongal

पोंगल

**Correct Answer:** Pongal

पोंगल

**Candidate Answer:** Pongal

पोंगल

**QID : 135** - If price of an article decreases from Rs. 12 to Rs. 10, quantity demanded increases from 1000 units to 1400 units. Find point elasticity of demand?

यदि एक वस्तु की कीमत रु. 12 से रु. 10 तक कम हो जाती है, मात्रा की मांग 1000 यूनिट से 1400 यूनिट तक बढ़ जाती है, तो मांग के बिंदु लोच का पता लगाएं।

**Options:**

1) 2.4

2) -2

3) -2.4

4) 2

**Correct Answer:** -2.4

**Candidate Answer:** [ NOT ANSWERED ]

**QID : 136** - Who generally presents the Finance Budget in Indian Parliament?

भारतीय संसद में वित्तीय बजट कौन प्रस्तुत करता है?

**Options:**

1) RBI Governor

भारतीय रिजर्व बैंक के गवर्नर

2) Budget Minister

बजट मंत्री

3) Finance Minister

वित्त मंत्री

4) Finance Secretary

वित्त सचिव

**Correct Answer:** Finance Minister

वित्त मंत्री

**Candidate Answer:** Finance Minister

वित्त मंत्री

**QID : 137** - Which gas contributes most to the Greenhouse effect?

ग्रीनहाउस प्रभाव में कौन सी गैस सर्वाधिक भाग देती है?

**Options:**

- 1) Water vapour  
पानी की वाष्प
- 2) Ozone  
ओज़ोन
- 3) Oxygen  
ऑक्सीजन
- 4) Nitrogen  
नाइट्रोजन

**Correct Answer:** Water vapour  
पानी की वाष्प

**Candidate Answer:** Nitrogen  
नाइट्रोजन

**QID : 138** - Corbett National Park was established to protect which animal?

कॉर्बेट नेशनल पार्क को किस पशु की रक्षा के लिए स्थापित किया गया था?

**Options:**

- 1) Bengal Tigers  
बंगाल के बाघ
- 2) Snow Leopards  
हिम तेंदुएँ (स्नो लेपर्ड्स)
- 3) Asiatic Lions  
एशियाई सिंह
- 4) One-Horned Rhinos  
एक सींग का गेंडा

**Correct Answer:** Bengal Tigers  
बंगाल के बाघ

**Candidate Answer:** Bengal Tigers  
बंगाल के बाघ

**QID : 139** - Subramanya Bharthi was a noted \_\_\_\_\_.

सुब्रमण्य भारती एक प्रसिद्ध \_\_\_\_\_ थे।

**Options:**

- 1) Boxer  
मुक्केबाज
- 2) Swimmer  
तेराक
- 3) Poet  
कवि
- 4) Painter  
चित्रकार

**Correct Answer:** Poet  
कवि

**Candidate Answer:** [ NOT ANSWERED ]

**QID : 140** - Which state does not share a common border with Chhattisgarh?

कौन सा राज्य छत्तीसगढ़ के साथ अपनी सीमा को साझा नहीं करता?

**Options:**

- 1) Andhra Pradesh  
आंध्र प्रदेश
- 2) Odisha  
उड़ीसा
- 3) Jharkhand  
झारखंड
- 4) Maharashtra  
महाराष्ट्र

**Correct Answer:** Andhra Pradesh  
आंध्र प्रदेश

**Candidate Answer:** Maharashtra  
महाराष्ट्र

**QID : 141** - Name the longest river in India.

भारत की सबसे लंबी नदी का नाम बताइए।

**Options:**

- 1) Brahmaputra  
ब्रह्मपुत्र
- 2) Ganga  
गंगा
- 3) Godavari  
गोदावरी
- 4) Krishna  
कृष्णा

**Correct Answer:** Ganga  
गंगा

**Candidate Answer:** Ganga  
गंगा

**QID : 142** - Quit India Movement was launched by Mahatma Gandhi in \_\_\_\_\_.

महात्मा गाँधी द्वारा भारत छोड़ो आंदोलन का प्रारंभ वर्ष ----- में किया गया था।

**Options:**

- 1) 1885
- 2) 1942
- 3) 1947
- 4) 1939

**Correct Answer:** 1942

**Candidate Answer:** 1942

**QID : 143** - Which Freedom Fighter addressed Mahatma Gandhi as "Father of the Nation" for the 1st time?

किस स्वतंत्रता सेनानी ने महात्मा गाँधी को पहली बार "राष्ट्रपिता" कहकर संबोधित किया था?

**Options:**

- 1) Jawaharlal Nehru  
जवाहरलाल नेहरू
- 2) Subhash Chandra Bose  
सुभाषचंद्र बोस
- 3) Sarojini Naidu  
सरोजिनी नायडू
- 4) Chandra Shekhar Azad  
चन्द्रशेखर आजाद

**Correct Answer:** Subhash Chandra Bose  
सुभाषचंद्र बोस

**Candidate Answer:** Subhash Chandra Bose  
सुभाषचंद्र बोस

**QID : 144** - Name the first Indian who got Nobel Prize in physics.

भौतिक शास्त्र में नोबेल पुरस्कार जीतने वाले प्रथम भारतीय व्यक्ति का नाम बताइए।

**Options:**

- 1) CK Naidu  
सी के नायडू
- 2) Rangnath Mishra  
रंगनाथ मिश्रा
- 3) Amartya Sen  
अमर्त्य सेन
- 4) CV Raman  
सी. वी. रमन

**Correct Answer:** CV Raman  
सी. वी. रमन

**Candidate Answer:** CV Raman  
सी. वी. रमन

**QID : 145** - Which physical quantity is measured in 'siemens'?

किस भौतिक मात्रा का 'सीमेंस' में मापन किया जाता है?

**Options:**

- 1) Electric potential  
विद्युत् विभव
- 2) Electrical conductance  
विद्युत चालकता
- 3) Magnetic flux  
चुंबकीय प्रवाह
- 4) Refractive index  
अपवर्तनांक

**Correct Answer:** Electrical conductance  
विद्युत चालकता

**Candidate Answer:** Electrical conductance  
विद्युत चालकता

**QID : 146** - Rate of change of momentum is

गति के परिवर्तन की दर क्या होती है?

**Options:**

- 1) Area  
क्षेत्रफल
- 2) Pressure  
दबाव
- 3) Force  
बल
- 4) Velocity  
वेग

**Correct Answer:** Force  
बल

**Candidate Answer:** Force  
बल

**QID : 147** - All of the following are the aims of Lok Adalat, except

निम्नलिखित में से एक विकल्प को छोड़कर बाकी सभी लोक अदालत के लक्ष्य हैं। वह विकल्प क्या है?

**Options:**

- 1) Secure justice to the weaker sections  
कमजोर वर्ग के लिए न्याय सुनिश्चित करना
- 2) Mass disposal of the cases  
मामलों को बड़ी मात्रा में निपटाना
- 3) Give the power to rule in the hands of the common man  
आम आदमी के हाथों में शासन करने का अधिकार सौंपना
- 4) Minimize cost and delay  
लागत और देरी को न्यूनतम करना

**Correct Answer:** Give the power to rule in the hands of the common man  
आम आदमी के हाथों में शासन करने का अधिकार सौंपना

**Candidate Answer:** Give the power to rule in the hands of the common man  
आम आदमी के हाथों में शासन करने का अधिकार सौंपना

**QID : 148** - What is the salary per month of the President of India?

भारत के राष्ट्रपति का प्रतिमाह वेतन कितना है?

**Options:**

- 1) Rs 1,50,000  
1,50,000 ₹.
- 2) Rs 1,00,000  
1,00,000 ₹.
- 3) Rs 75,000  
75,000 ₹.
- 4) Rs 50,000  
50,000 ₹.

**Correct Answer:** Rs 1,50,000  
1,50,000 ₹.

**Candidate Answer:** Rs 75,000  
75,000 ₹.

**QID : 149** - Shital Mahajan is associated with which sport?

शीतल महाजन किस खेल के साथ जुड़ी हुई हैं?

**Options:**

- 1) Sky Diving  
स्काय डाइविंग
- 2) Shooting  
निशानेबाजी
- 3) Discus Throw  
डिस्कस थ्रो
- 4) Cricket  
क्रिकेट

**Correct Answer:** Sky Diving  
स्काय डाइविंग

**Candidate Answer:** [ NOT ANSWERED ]

**QID : 150** - Who is the author of the book, 'A Suitable Boy'?

'ए सूटेबल बॉय' पुस्तक के लेखक कौन है?

**Options:**

1) Vikram Seth

विक्रम सेठ

2) Arun Shourie

अरुण शोरी

3) Amrita Pritam

अमृता प्रीतम

4) Mahashweta Devi

महाश्वेता देवी

**Correct Answer:** Vikram Seth

विक्रम सेठ

**Candidate Answer:** [ NOT ANSWERED ]

**QID : 151** - Simple interest on a certain sum of money for 3 years at 8% per annum is half the compound interest on Rs 1200 for 2 years at 10% per annum. The sum placed on simple interest is

8% वार्षिक दर से 3 वर्षों के लिए एक निश्चित राशि पर साधारण ब्याज 10% वार्षिक दर से 2 वर्षों के लिए 1200 रु की राशि पर चक्रवृद्धि ब्याज से आधा है। साधारण ब्याज पर दी गई राशि कितनी है?

**Options:**

1) Rs 525

525 रु

2) Rs 1050

1050 रु

3) Rs 260

260 रु

4) Rs 420

420 रु

**Correct Answer:** Rs 525

525 रु

**Candidate Answer:** Rs 525

525 रु

**QID : 152** - If  $2x + 3(5-2x) > 2 - 3x < 2x - x/3$ , then x can take which of the following values?

यदि  $2x + 3(5-2x) > 2 - 3x < 2x - x/3$ , फिर x का निम्न मानों में से क्या मान होगा?

**Options:**

1) 0

2) -2

3) -4

4) 2

**Correct Answer:** 2

**Candidate Answer:** 2

**QID : 153** - If  $x + y = 12$  and  $xy = 32$ , then what is the value of  $x^2 + y^2$

यदि  $x + y = 12$  और  $xy = 32$  है, तो  $x^2 + y^2$  का मान क्या होगा?

**Options:**

1) 24

2) 144

3) 128

4) 80

**Correct Answer:** 80

**Candidate Answer:** 80

**QID : 154** - Which of the following numbers is completely divisible by 99?

निम्न संख्याओं में से कौन सी संख्या 99 से पूरी तरह से विभाज्य है?

**Options:**

1) 51579

2) 51557

3) 55036

4) 49984

**Correct Answer:** 51579

**Candidate Answer:** 51579

**QID : 155** - If  $\cos C + \cos D = x$ , then value of x is

$\cos C + \cos D = x$ , तो x का मान क्या है?

**Options:**

1)  $2\cos[(C+D)/2]\cos[(C-D)/2]$

2)  $2\sin[(C+D)/2]\sin[(C-D)/2]$

3)  $2\cos[(C+D)/2]\sin[(C-D)/2]$

4)  $2\sin[(C+D)/2]\cos[(C-D)/2]$

**Correct Answer:**  $2\cos[(C+D)/2]\cos[(C-D)/2]$

**Candidate Answer:**  $2\cos[(C+D)/2]\cos[(C-D)/2]$

**QID : 156** - What is the length of the arc whose central angle is  $30^\circ$  and radius of the circle is 21 cm?

उस चाप की लंबाई क्या होगी जिसका केंद्रीय कोण  $30^\circ$  है और वृत्त की त्रिज्या 21 से.मी. है?

**Options:**

- 1) 22 cm  
22 से.मी.
- 2) 16.5 cm  
16.5 से.मी.
- 3) 28.5 cm  
28.5 से.मी.
- 4) 11 cm  
11 से.मी.

**Correct Answer:** 11 cm  
11 से.मी.

**Candidate Answer:** 11 cm  
11 से.मी.

**QID : 157** - A solid copper sphere of radius 9 cm is melted and reformed into a wire of radius 1 mm. What will be the length of this wire? (Take  $\pi = 22/7$ )

9 से.मी. की त्रिज्या वाले एक ठोस तांबे के गोले को पिघलाया गया और 1 मि.मी. की त्रिज्या के एक तार में खींचा गया है। इस तार की लंबाई क्या होगी? ( $\pi = 22/7$  लीजिये )

**Options:**

- 1) 1166.4 metres  
1166.4 मीटर
- 2) 1458 metres  
1458 मीटर
- 3) 777.6 metres  
777.6 मीटर
- 4) 972 metres  
972 मीटर

**Correct Answer:** 972 metres  
972 मीटर

**Candidate Answer:** 972 metres  
972 मीटर

**QID : 158** - The simplified form of  $(4x + 3)^2 \cdot (3x - 5) - (4x^3 - 12x^2 + 9x - 20)$  is

$(4x + 3)^2 \cdot (3x - 5) - (4x^3 - 12x^2 + 9x - 20)$  का सरलीकृत रूप क्या है?

**Options:**

- 1)  $6x^2 - 48x - 50$
- 2)  $24x^3 + 2x^2 - 32x - 15$
- 3)  $44x^3 + 4x^2 - 102x - 25$
- 4)  $24x^3 + 8x^2 - 42x - 50$

**Correct Answer:**  $44x^3 + 4x^2 - 102x - 25$

**Candidate Answer:**  $44x^3 + 4x^2 - 102x - 25$

**QID : 159** - The sum of a non-zero number and its reciprocal is 2. What is the number?

एक गैर-शून्य संख्या का और उसके व्युत्क्रम संख्या का योग 2 है। वह संख्या क्या है?

**Options:**

- 1) 1
- 2) 2
- 3) 0
- 4) 4

**Correct Answer:** 1

**Candidate Answer:** 1

**QID : 160** - What is the value of  $\operatorname{cosec} -150^\circ$ ?

$\operatorname{cosec} -150^\circ$  का मान क्या है?

**Options:**

- 1) -2
- 2)  $2/\sqrt{3}$
- 3) 2
- 4)  $-2/\sqrt{3}$

**Correct Answer:** -2



**Candidate Answer:** -2

**QID : 161** - If  $\tan A - \cot A = x$ , then value of  $x$  is?

यदि  $\tan A - \cot A = x$ , तो  $x$  का मान क्या है?

**Options:**

1)  $(1 + 2\cos^2 A)/(\sin A \cos A)$

2)  $(\sin A \cos A)/(1 - 2\cos^2 A)$

3)  $(\sin A \cos A)/(1 + 2\cos^2 A)$

4)  $(1 - 2\cos^2 A)/(\sin A \cos A)$

**Correct Answer:**  $(1 - 2\cos^2 A)/(\sin A \cos A)$

**Candidate Answer:**  $(1 - 2\cos^2 A)/(\sin A \cos A)$

**QID : 162** - What is the equation of the line passing through the point  $(-1,3)$  and having x-intercept of 4 units?

उस रेखा का समीकरण क्या होगा, जो बिंदु  $(-1,3)$  से होकर गुजर रही है, और x-अक्ष को यूनिट 4 पर काटती है?

**Options:**

1)  $3x - 5y = 12$

2)  $3x + 5y = 12$

3)  $3x + 5y = -12$

4)  $3x - 5y = -12$

**Correct Answer:**  $3x + 5y = 12$

**Candidate Answer:**  $3x + 5y = 12$

**QID : 163** - 25% discount is offered on an item. By applying a promo code the customer wins 8% cash back. What is the effective discount?

एक वस्तु पर 25% छूट की पेशकश की गई है। एक प्रोमो कोड लागू करके ग्राहक 8% नकद वापस जीतता है। उसको मिली प्रभावी छूट क्या है?

**Options:**

1) 35.75 percent

35.75 प्रतिशत

2) 35 percent

35 प्रतिशत

3) 31 percent

31 प्रतिशत

4) 12.5 percent

12.5 प्रतिशत

**Correct Answer:** 31 percent

31 प्रतिशत

**Candidate Answer:** 31 percent

31 प्रतिशत

**QID : 164** - Prabhat has done  $1/2$  of a job in 12 days. Santosh completes the rest of the job in 6 days. In how many days can they together do the job?

प्रभात ने 12 दिन में एक काम का  $1/2$  भाग पूरा कर लिया है। संतोष बचा हुआ काम 6 दिन में पूरा करता है। दोनों मिलकर यह काम कितने दिनों में पूरा कर सकते हैं?

**Options:**

1) 12 days

12 दिन

2) 4 days

4 दिन

3) 8 days

8 दिन

4) 16 days

16 दिन

**Correct Answer:** 8 days

8 दिन

**Candidate Answer:** 8 days

8 दिन

**QID : 165** -  $x$  and  $y$  are two numbers such that their mean proportion is 16 and third proportion is 128. What is the value of  $x$  and  $y$ ?

$x$  और  $y$  ऐसी दो संख्याएँ हैं जिनका माध्य अनुपात 16 है और तृतीय अनुपात 128 है।  $x$  और  $y$  का मान क्या है?

**Options:**

- 1) 8 and 16  
8 और 16
- 2) 16 and 32  
16 और 32
- 3) 8 and 32  
8 और 32
- 4) 16 and 16  
16 और 16

**Correct Answer:** 8 and 32  
8 और 32

**Candidate Answer:** 8 and 32  
8 और 32

**QID : 166** - In the first 32 overs of a cricket match, the run rate was 7.2 runs/over. What is the required run rate in the remaining 18 overs to reach the target of 297 runs?

एक क्रिकेट मैच के पहले 32 ओवर में रन रेट 7.2 रन/ओवर था। शेष 18 ओवरों में 297 रन के लक्ष्य तक पहुँचने के लिए अपेक्षित रन रेट क्या होगा?

**Options:**

- 1) 4.3
- 2) 4.9
- 3) 3.1
- 4) 3.7

**Correct Answer:** 3.7

**Candidate Answer:** 3.7

**QID : 167** - Chord AB of a circle when extended meets the tangent to the circle at point P. PT is the tangent touching the circle at point T. If lengths of PT and PB are 6 cm and 4 cm respectively, what is the length of PA?

एक वृत्त की जीवा AB को विस्तृत करने पर वह वृत्त के स्पर्शज्या के साथ बिंदु P पर मिलता है। PT वह स्पर्शज्या है जो वृत्त को बिंदु T पर स्पर्श करती है। यदि PT और PB की लंबाई क्रमशः 6 से.मी. और 4 से.मी. है, तो PA की लंबाई क्या होगी?

**Options:**

- 1) 12 cm  
12 से.मी.
- 2) 18 cm  
18 से.मी.
- 3) 27 cm  
27 से.मी.
- 4) 9 cm  
9 से.मी.

**Correct Answer:** 9 cm  
9 से.मी.

**Candidate Answer:** 9 cm  
9 से.मी.

**QID : 168** - A student multiplied a number by  $\frac{4}{5}$  instead of  $\frac{5}{4}$ . What is the percentage error in the calculation?

एक छात्र ने एक संख्या का गुणा  $\frac{5}{4}$  के बजाय  $\frac{4}{5}$  से कर दिया। इस गणना में प्रतिशत त्रुटि कितनी होगी?

**Options:**

- 1) 56.25 percent  
56.25 प्रतिशत
- 2) 18 percent  
18 प्रतिशत
- 3) 28.13 percent  
28.13 प्रतिशत
- 4) 36 percent  
36 प्रतिशत

**Correct Answer:** 36 percent  
36 प्रतिशत

**Candidate Answer:** 36 percent  
36 प्रतिशत

**QID : 169** - Ruchir walks at 20 km/hr and Rukma cycles at 25 km/hr towards each other. What was the distance between them when they started if they meet after 48 minutes?

रुचिर 20 कि.मी./घंटा की गति से चल कर और रुकमा 25 कि.मी./घंटा की गति से साइकिल चलाते हुए एक दूसरे की तरफ आते हैं। यदि वे 48 मिनट के बाद मिलते हैं, तो शुरुआत में उनके बीच कितनी दूरी थी?

**Options:**

- 1) 54 km  
54 कि.मी.
- 2) 45 km  
45 कि.मी
- 3) 36 km  
36 कि.मी
- 4) 27 km  
27 कि.मी

**Correct Answer:** 36 km  
36 कि.मी

**Candidate Answer:** 36 km  
36 कि.मी

**QID : 170** - A vendor buys chikoos at 15 for Rs 8 and then sells at 10 for Rs 6. What will be the result?

एक विक्रेता 8 रु में 15 चीकू खरीदता है और फिर 6 रु में 10 बेच देता है। इसका क्या परिणाम होगा?

**Options:**

- 1) 12.5 percent loss  
12.5 प्रतिशत हानि
- 2) 11.11 percent gain  
11.11 प्रतिशत लाभ
- 3) 12.5 percent gain  
12.5 प्रतिशत लाभ
- 4) 11.1 percent loss  
11.1 प्रतिशत हानि

**Correct Answer:** 12.5 percent gain  
12.5 प्रतिशत लाभ

**Candidate Answer:** 12.5 percent gain  
12.5 प्रतिशत लाभ

**QID : 171** - Point Q(-1,b) is the midpoint of segment EF. Co-ordinates of point E are (-4,a) and point F are (2,0). What is the value of a and b?

बिंदु Q(-1,b) खंड EF का मध्य बिंदु है। बिंदु E के निर्देशांक (-4,a) है और बिंदु F के निर्देशांक (2,0) है। a और b का मान क्या होगा?

**Options:**

- 1) a = 2; b = 1
- 2) a = -2; b = -1
- 3) a = -4; b = -8
- 4) a = 4; b = 8

**Correct Answer:** a = -2; b = -1

**Candidate Answer:** a = -2; b = -1

**QID : 172** -

Refer the below data table and answer the following Question.

नीचे दिये गए डेटा तालिका के आधार पर निम्नलिखित प्रश्न का उत्तर दें।

	Weight (kg) वजन (किलोग्राम)	Height (m) ऊंचाई (मीटर)
Ali / अली	50	1.52
Alok / अलोक	59	1.67
Amit / अमित	73	1.8
Amol / अमोल	64	1.72

Who has the least weight to height ratio?

वजन और ऊंचाई का अनुपात किसका सबसे कम है?

**Options:**

- 1) Ali  
अली
- 2) Alok  
अलोक
- 3) Amit  
अमित
- 4) Amol  
अमोल

**Correct Answer:** Ali  
अली

**Candidate Answer:** [ NOT ANSWERED ]

QID : 173 -

Refer the below data table and answer the following Question.

नीचे दिये गए डेटा तालिका के आधार पर निम्नलिखित प्रश्न का उत्तर दें।

Year वर्ष	Company's % Profit कंपनी का लाभ %
2011	20
2012	15
2013	25
2014	5
2015	10

What was the revenue of the company if its expenditure was Rs 675 crore in the year when its % profit was the least?

यदि एक कंपनी का व्यय उस वर्ष में 675 करोड़ रूपए था जिसमें उसका लाभ % सबसे कम था, तो कंपनी का राजस्व कितना था?

Options:

- 1) 742.5
- 2) 776.25
- 3) 675
- 4) 708.75

Correct Answer: 708.75

Candidate Answer: 708.75

QID : 174 -

The following table shows the number of children in each house of a society.

निम्न तालिका एक समाज के प्रत्येक घर में बच्चों की संख्या दर्शाती है।

Number of Children बच्चों की संख्या	Number of Houses घरों की संख्या
0	6
1	16
2	15
3	3

What is the average number of children per house?

प्रत्येक घर में बच्चों की औसत संख्या क्या है?

Options:

- 1) 1.38
- 2) 1.63
- 3) 1.88
- 4) 1.13

Correct Answer: 1.38

Candidate Answer: 1.38

**QID : 175 -**

Refer the below data table and answer the following Question.

नीचे दिये गए डेटा तालिका के आधार पर निम्नलिखित प्रश्न का उत्तर दें।

Partners भागीदार	Present % share वर्तमान% हिस्सा
Anand / आनंद	5
Basu / बसु	5
Chinmay / चिन्मय	15
Dhiraj / धीरज	20
Ejaz / एजाज	55

If the company has issued six lakh shares between its five partners and if Anand offers to sell 15000 of his shares to Ejaz, then Ejaz will have how many shares?

यदि एक कंपनी ने अपने पांच भागीदारों के बीच छः लाख शेयर जारी किए हैं और अगर आनंद, एजाज को अपने शेयरों में से 15000 बेचने का प्रस्ताव करता है, तो एजाज के पास कितने शेयर होंगे?

**Options:**

- 1) 360000 shares  
360000 शेयर
- 2) 330000 shares  
330000 शेयर
- 3) 345000 shares  
345,000 शेयर
- 4) 315000 shares  
315000 शेयर

**Correct Answer:** 345000 shares  
345,000 शेयर

**Candidate Answer:** 345000 shares  
345,000 शेयर

**QID : 176 -** In the following question, some part of the sentence may have errors. Find out which part of the sentence has an error and select the appropriate option. If a sentence is free from error, select 'No Error'.

**Their luggages which were(A)/kept at the station's(B)/ restroom's lockers, were later retrieved.(C)/No error(D)**

**Options:**

- 1) A
- 2) B
- 3) C
- 4) D

**Correct Answer:** A

**Candidate Answer:** C

**QID : 177 -** In the following question, the sentence given with blank to be filled in with an appropriate word. Select the correct alternative out of the four and indicate it by selecting the appropriate option.

**The warning bells \_\_\_\_\_several times before anyone realized the danger.**

**Options:**

- 1) were ringing
- 2) had rung
- 3) had rang
- 4) would have rung

**Correct Answer:** had rung

**Candidate Answer:** had rung

**QID : 178 -** Select the antonym of

**sacred**

**Options:**

- 1) pious
- 2) hallowed
- 3) divine
- 4) profane

**Correct Answer:** profane

**Candidate Answer:** profane

**QID : 179** - In the following question, out of the four alternatives, select the alternative which is the best substitute of the phrase.

**Rub a part of the body to restore warmth or sensation.**

**Options:**

- 1) Fuzz
- 2) Chafe
- 3) Scum
- 4) Oblique

**Correct Answer:** Chafe

**Candidate Answer:** Chafe

**QID : 180** - Improve the bracketed part of the sentence.

Human beings are social animals, (**who are living in communities**), regulated by social norms and laws.

**Options:**

- 1) living in communities
- 2) living amongst a community
- 3) living in midst of communities
- 4) no improvement

**Correct Answer:** living in communities

**Candidate Answer:** no improvement

**QID : 181** - Select the synonym of

**astonish**

**Options:**

- 1) mundane
- 2) empress
- 3) overwhelm
- 4) calm

**Correct Answer:** overwhelm

**Candidate Answer:** overwhelm

**QID : 182** - In the following question, the sentence given with blank to be filled in with an appropriate word. Select the correct alternative out of the four and indicate it by selecting the appropriate option.

**I never go shopping on weekends as on those days the malls are \_\_\_\_\_ of people.**

**Options:**

- 1) full
- 2) busy
- 3) crowded
- 4) packed

**Correct Answer:** full

**Candidate Answer:** full

**QID : 183** - Rearrange the parts of the sentence in correct order.

**Williamson shoveled scorn on**

**P-the low-income white Republican voters who,**

**Q-were most responsible for the rise of Trump**

**R-as he saw it,**

**Options:**

- 1) PRQ
- 2) RQP
- 3) QPR
- 4) QRP

**Correct Answer:** PRQ

**Candidate Answer:** PRQ

**QID : 184** - In the following question, some part of the sentence may have errors. Find out which part of the sentence has an error and select the appropriate option. If a sentence is free from error, select 'No Error'.

**That summer, elections were(A)/held at many a place(B)/without any untoward incident.(C)/No error**

**Options:**

- 1) A
- 2) B
- 3) C
- 4) D

**Correct Answer:** B

**Candidate Answer:** B

**QID : 185** - In the following question, a sentence has been given in Direct/Indirect speech. Out of the four alternatives suggested, select the one which best express the same sentence in Indirect/Direct speech.

**Sahil said, "Where will I be this time next year!"**

**Options:**

- 1) Sahil asked where he should be that time the following year.
- 2) Sahil worried where he would be that time the next year.
- 3) Sahil wondered where he would be that time the following year.
- 4) Sahil said where he would be that time the next year.

**Correct Answer:** Sahil wondered where he would be that time the following year.

**Candidate Answer:** Sahil wondered where he would be that time the following year.

**QID : 186** - Improve the bracketed part of the sentence.

Virat bats very well, (didn't he)?

**Options:**

- 1) isn't it
- 2) doesn't he
- 3) wasn't it
- 4) no improvement

**Correct Answer:** doesn't he

**Candidate Answer:** isn't it

**QID : 187** - In the following question, out of the four alternatives, select the alternative which best expresses the meaning of the idiom/phrase.

**Add fuel to the fire**

**Options:**

- 1) Go from one bad situation to another
- 2) A cause becomes stronger when more people join
- 3) The flame will extinguish if it runs out of oil
- 4) Cause a situation to become worse

**Correct Answer:** Cause a situation to become worse

**Candidate Answer:** Cause a situation to become worse

**QID : 188** - Select the antonym of

**outlandish**

**Options:**

- 1) droll
- 2) kinky
- 3) common
- 4) grotesque

**Correct Answer:** common

**Candidate Answer:** common

**QID : 189** - In the following question, a sentence has been given in Active/Passive voice. Out of four alternatives suggested, select the one which best expresses the same sentence in Passive/Active voice.

**The Marathas surrendered their fort to the Mughals after the war.**

**Options:**

- 1) After the war the Marathas had to surrender their fort to the Mughals.
- 2) The Mughals after the war took the fort surrendered by the Marathas.
- 3) Their fort was surrendered by the Marathas to the Mughals after the war.
- 4) The Marathas after the war surrendered their fort to the Mughals.

**Correct Answer:** Their fort was surrendered by the Marathas to the Mughals after the war.

**Candidate Answer:** After the war the Marathas had to surrender their fort to the Mughals.

**QID : 190** - Select the word with the correct spelling.

**Options:**

- 1) femenism
- 2) acesses
- 3) permuted
- 4) vacuols

**Correct Answer:** permuted

**Candidate Answer:** permuted

**QID : 191** - Rearrange the parts of the sentence in correct order.

**Amartya Sen lays claim**

**P-to a history of writing**

**Q-some of the finest research papers**

**R-that have been published**

**Options:**

- 1) QRP
- 2) PQR
- 3) RQP
- 4) QPR

**Correct Answer:** PQR

**Candidate Answer:** PQR

**QID : 192** - Select the word with the correct spelling.

**Options:**

- 1) arobics
- 2) chosers
- 3) bateded
- 4) eternity

**Correct Answer:** eternity

**Candidate Answer:** eternity

**QID : 193** - In the following question, out of the four alternatives, select the alternative which is the best substitute of the phrase.

**The punishment of being kept in school after hours.**

**Options:**

- 1) Pretension
- 2) Isolate
- 3) Detention
- 4) Blender

**Correct Answer:** Detention

**Candidate Answer:** Detention

**QID : 194** - In the following question, out of the four alternatives, select the alternative which best expresses the meaning of the idiom/phrase.

**A slap on the wrist**

**Options:**

- 1) A mild punishment
- 2) Punishing the wrong person
- 3) To hit someone where it hurts the most
- 4) To threaten someone

**Correct Answer:** A mild punishment

**Candidate Answer:** To hit someone where it hurts the most

**QID : 195** - Select the synonym of

**gaudy**

**Options:**

- 1) modest
- 2) showy
- 3) refined
- 4) sophisticated

**Correct Answer:** showy

**Candidate Answer:** showy

**QID : 196** - In the following passage some of the words have been left out. Read the passage carefully and select the correct answer for the given blank out of the four alternatives.

Did you think that colouring books were a \_\_\_\_\_ of your childhood? Here's something that will come as a surprise. Colouring books for adults have been steadily gaining popularity since last year. While some focus on \_\_\_\_\_ and floral designs, others have patterns \_\_\_\_\_ by nature, animals and even angels. The most popular books are those which feature mandalas. Mandalas refer to sacred circles in Sanskrit, which have \_\_\_\_\_ qualities. Deeply \_\_\_\_\_, mandalas have a rich history and are even associated with healing. Several studies say that mandalas increase self-awareness, improve concentration and promote harmony. Colour therapists reckon that different colours have different qualities and therefore, have different effects on the human mind.

Did you think that colouring books were a \_\_\_\_\_ of your childhood?

**Options:**

- 1) blast from the past
- 2) remnant
- 3) fond memory
- 4) activity

**Correct Answer:** fond memory

**Candidate Answer:** remnant

**QID : 197** - In the following passage some of the words have been left out. Read the passage carefully and select the correct answer for the given blank out of the four alternatives.

Did you think that colouring books were a \_\_\_\_\_ of your childhood? Here's something that will come as a surprise. Colouring books for adults have been steadily gaining popularity since last year. While some focus on \_\_\_\_\_ and floral designs, others have patterns \_\_\_\_\_ by nature, animals and even angels. The most popular books are those which feature mandalas. Mandalas refer to sacred circles in Sanskrit, which have \_\_\_\_\_ qualities. Deeply \_\_\_\_\_, mandalas have a rich history and are even associated with healing. Several studies say that mandalas increase self-awareness, improve concentration and promote harmony. Colour therapists reckon that different colours have different qualities and therefore, have different effects on the human mind.

While some focus on \_\_\_\_\_ and floral designs

**Options:**

- 1) deep
- 2) philosophical
- 3) ideal
- 4) abstract

**Correct Answer:** abstract

**Candidate Answer:** abstract



**QID : 198** - In the following passage some of the words have been left out. Read the passage carefully and select the correct answer for the given blank out of the four alternatives.

Did you think that colouring books were a \_\_\_\_\_ of your childhood? Here's something that will come as a surprise. Colouring books for adults have been steadily gaining popularity since last year. While some focus on \_\_\_\_\_ and floral designs, others have patterns \_\_\_\_\_ by nature, animals and even angels. The most popular books are those which feature mandalas. Mandalas refer to sacred circles in Sanskrit, which have \_\_\_\_\_ qualities. Deeply \_\_\_\_\_, mandalas have a rich history and are even associated with healing. Several studies say that mandalas increase self-awareness, improve concentration and promote harmony. Colour therapists reckon that different colours have different qualities and therefore, have different effects on the human mind.

others have patterns \_\_\_\_\_ by nature, animals and even angels.

**Options:**

- 1) inspired
- 2) roused
- 3) excited
- 4) encouraged

**Correct Answer:** inspired

**Candidate Answer:** inspired

**QID : 199** - In the following passage some of the words have been left out. Read the passage carefully and select the correct answer for the given blank out of the four alternatives.

Did you think that colouring books were a \_\_\_\_\_ of your childhood? Here's something that will come as a surprise. Colouring books for adults have been steadily gaining popularity since last year. While some focus on \_\_\_\_\_ and floral designs, others have patterns \_\_\_\_\_ by nature, animals and even angels. The most popular books are those which feature mandalas. Mandalas refer to sacred circles in Sanskrit, which have \_\_\_\_\_ qualities. Deeply \_\_\_\_\_, mandalas have a rich history and are even associated with healing. Several studies say that mandalas increase self-awareness, improve concentration and promote harmony. Colour therapists reckon that different colours have different qualities and therefore, have different effects on the human mind.

which have \_\_\_\_\_ qualities.

**Options:**

- 1) prayerful
- 2) pensive
- 3) thoughtful
- 4) meditative

**Correct Answer:** meditative

**Candidate Answer:** prayerful

**QID : 200** - In the following passage some of the words have been left out. Read the passage carefully and select the correct answer for the given blank out of the four alternatives.

Did you think that colouring books were a \_\_\_\_\_ of your childhood? Here's something that will come as a surprise. Colouring books for adults have been steadily gaining popularity since last year. While some focus on \_\_\_\_\_ and floral designs, others have patterns \_\_\_\_\_ by nature, animals and even angels. The most popular books are those which feature mandalas. Mandalas refer to sacred circles in Sanskrit, which have \_\_\_\_\_ qualities. Deeply \_\_\_\_\_, mandalas have a rich history and are even associated with healing. Several studies say that mandalas increase self-awareness, improve concentration and promote harmony. Colour therapists reckon that different colours have different qualities and therefore, have different effects on the human mind.

Deeply \_\_\_\_\_, mandalas have a rich history

**Options:**

- 1) sacred
- 2) holy
- 3) spiritual
- 4) religiously

**Correct Answer:** spiritual

**Candidate Answer:** sacred